

Всероссийская олимпиада школьников  
по Основам безопасности и защиты Родины  
2024–2025 учебный год  
Школьный этап

**Задания для участников 10–11 классов**  
Общее время выполнения заданий – 45 минут.  
Максимальный балл за выполнение всех заданий – 100 баллов.

ШИФР 053Р-11-4

918

**Дорогие ребята!**

При выполнении заданий Вам предстоит выполнить определённую работу, которую лучше организовать следующим образом:

- внимательно прочитайте задание;
- если Вы отвечаете на теоретический вопрос или решаете ситуационную задачу, обдумайте и сформулируйте конкретный ответ (ответ должен быть кратким, его содержание требуется вписать в отведённое поле, писать следует чётко и разборчиво);
- при ответе на тесты определите верный ответ и обведите кружком, букву (буквы), соответствующую (-ие) выбранному Вами ответу.

За каждый правильный ответ Вы можете получить определённое членами жюри количество баллов, не выше указанной максимальной оценки.

Сумма набранных баллов за все решённые вопросы в двух форматах – итог Вашей работы. Максимальное количество баллов – 100.

Задания считаются выполненными, если Вы вовремя сдали их членам жюри.

**Желаем удачи!**



## Тестовые задания

Определите один правильный ответ, обведите его кружком.

За правильный ответ начисляется 2 балла.

- 2 1. Что означает международный отличительный знак три оранжевых круга:
- а) нейтральная зона
  - б) особая защита культурных ценностей
  - в) гражданская оборона
  - г) установки и сооружения содержащие опасные силы
- 0 2. Основным документ по развитию системы национальной безопасности на основе официально признанной системы стратегических приоритетов внутренней и внешней политики, определяющих состояние национальной безопасности и уровень устойчивого развития государства на долгосрочную перспективу – это...
- а) Федеральный закон Российской Федерации «О гражданской обороне»
  - б) Конституция Российской Федерации
  - в) Военная доктрина Российской Федерации
  - г) Стратегия национальной безопасности Российской Федерации
- 2 3. Наиболее распространенной причиной гибели пострадавших от тяжелых травм при ДТП является:
- а) несвоевременное прибытие скорой помощи
  - б) безучастность и безграмотность очевидцев
  - в) отсутствие аптечки
  - г) удаленность от больниц или других мед учреждений
- 0 4. К поражающим факторам пожара относятся:
- а) интенсивное излучение гамма-лучей, поражающее людей
  - б) разрушение зданий и поражение людей за счет смещения поверхностных слоев земли
  - в) открытый огонь, токсичные продукты горения
  - г) образование облака зараженного воздуха
- 2 5. Удаление радиоактивных веществ с зараженной поверхности называется:
- а) дегазация
  - б) дезактивация
  - в) дезинфекция
  - г) адсорбция
- 2 6. Проходя через организм человека, электрический ток может вызывать:
- 1) термическое действие 2) электролитическое действие
- а) верно только 1
  - б) верно только 2
  - в) верны оба суждения
  - г) оба суждения не верны
- 2 7. Противогаз надевается по команде «Газы!». После получения команды в первую очередь необходимо:
- а) задержать дыхание
  - б) вынуть противогаз из сумки
  - в) снять головной убор
  - г) сделать полный выдох



2 8. Невидимый поток радиоактивных частиц альфа-, бета-, гамма-излучений, который характеризуется различной проникающей способностью при торможении заряженных частиц в веществе, в разных средах, определяющей их радиоактивность?

- а) проникающая радиация
- б) световое излучение
- в) радиоактивное загрязнение местности
- г) ударная волна

2 9. Если вы обнаружили неизвестный, подозрительный предмет в общественном транспорте, какое правильное действие необходимо предпринять?

- а) немедленно покинуть транспортное средство
- б) подойти осмотреть, вскрыть предмет на наличие признаков взрывного устройства
- в) предпринять меры к тому, чтобы люди отошли как можно дальше от подозрительного предмета
- г) доложить немедленно водителю или кондуктору о данном предмете, попросить остановить транспортное средство

2 10. Имobilизация, изображенная на рисунке, выполняется при переломе(ах):

- а) шеи
- б) плечевой кости
- в) позвоночника
- г) костей кисти



— 468

**Определите все правильные ответы.**

*За каждый правильный ответ начисляется 2 балла.*

4 11. Назовите заболевания, которые могут передаваться половым путем:

- а) СПИД
- б) холера
- в) гонорея
- г) дерматит
- д) пневмония

4 12. Такие признаки как: боль, отёк, деформация в месте повреждения, укорочение пострадавшей конечности, могут наблюдаться при следующих повреждениях:

- а) ушиб
- б) растяжение связок
- в) разрыв связок
- г) перелом
- д) вывих

4 13. В случае возгорания мусора в корзине следует:

- а) накрыть корзину плотной тканью
- б) выбросить корзину в окно
- в) залить корзину водой
- г) высыпать содержимое и тушить на полу
- д) перевернуть корзину



4 14. Какое значение имеет визуальный сигнал и к какому типу он относится?

- а) «воздух–земля»
- б) отрицательно – «нет»
- в) «земля–воздух»
- г) «садитесь здесь»
- д) «земля–земля»
- е) утвердительно – «да»



4 15. Как должен себя вести человек, если он оказался заложником?

- а) не создавать конфликтных ситуаций, не смотреть преступникам в глаза
- б) не привлекая к себе лишнего внимания, постараться убежать
- в) если есть возможность самостоятельно обезвредить преступников
- г) попытаться вступить в переговоры с террористами
- д) выполнять требования преступников, сохранять психологическую устойчивость

4 16. Какие из перечисленных признаков являются характерными для инфаркта?

- а) кашель
- б) одышка
- в) нарушение речи
- г) боль за грудиной
- д) асимметрия лица

4 17. При движении организованных пешеходных колонн по проезжей части в тёмное время суток спереди и сзади колонны с левой стороны должны находиться сопровождающие с включёнными фонарями

- а) спереди – зеленого цвета
- б) сзади – оранжевого цвета
- в) сзади – красного цвета
- г) сзади – жёлтого цвета
- д) спереди – белого цвета

2 18. Если руки регулировщика вытянуты в стороны или опущены, то:

- а) со стороны левого бока разрешено движение трамваю налево, безрельсовым транспортным средствам во всех направлениях
- б) со стороны левого и правого бока разрешено движение трамваю прямо, безрельсовым транспортным средствам прямо и направо, пешеходам разрешено переходить проезжую часть
- в) со стороны груди всем транспортным средствам разрешено движение только направо
- г) со стороны груди и спины движение всех транспортных средств и пешеходов запрещено
- д) пешеходам разрешено переходить проезжую часть за спиной регулировщика

300

≈ 460



## Теоретические задания

**105** Задание 1 [10 баллов] Опишите категории пригодности к военной службе.

Категории пригодности к военной службе	Описание
2 Категория А	Здоров, может служить в любых войсках
2 Категория Б	имеет незначительные проблемы со здоровьем, может с ограничениями
2 Категория В	имеет серьезные проблемы со здоровьем, подлежит призыву только в военное время
2 Категория Г	временно не подлежит призыву по состоянию здоровья, подлежит отсрочке на 6-12 месяцев
2 Категория Д	состояние здоровья не позволяет служить

**Оценка задания.** Максимальная оценка за правильно выполненное задание – 10 баллов, при этом:

- за правильный ответ по каждой из пяти позиций, указанных в варианте ответа, начисляется по 2 балла;
- при отсутствии правильных ответов баллы не начисляются.

**95** Задание 2 [12 баллов] Дайте характеристику различных степеней ожога.

Степени ожога	Описание
2 I степень ожога	покраснение кожи, припухлость
2 II степень ожога	появление пузырей
2 III степень ожога	на месте ожога образуется струп
3 IV степень ожога	обугливание кожи






**Оценка задания.** Максимальная оценка за правильно выполненное задание – 12 баллов, при этом:

- за правильный ответ по каждой из четырех позиций, указанных в варианте ответа, начисляется по 3 балла;
- при отсутствии правильных ответов баллы не начисляются.

**105** Задание 3 [10 баллов] Соотнесите погоны военнослужащих и соответствующие им воинские звания.

Ответ запишите в таблицу.



Погоны		Звания	
А		1	сержант
Б		2	капитан
В		3	ефрейтор
Г		4	майор
Д		5	старший прапорщик

Ответ:

А	Б	В	Г	Д
3 / 2	4 / 2	5 / 2	2 / 2	1 / 2

**Оценка задания.** Максимальная оценка за правильно выполненное задание – 10 баллов, при этом:

- за правильный ответ по каждой из пяти позиций, указанных в варианте ответа, начисляется по 2 балла;
- при отсутствии правильных ответов баллы не начисляются.

68 Задание 4 [6 баллов] Установите соответствие между названием узлов и их назначением, вписав ответ в таблицу.



Название узла		Назначение	
А	Грейпвайн, встречный	1	для крепления верёвки к опоре или карабину
Б	Штык, булинь, австрийский проводник	2	вспомогательные узлы
В	Стремя, проводник	3	для связывания верёвок одинакового диаметра

Ответ:

А	Б	В
3 / 2	2 / 2	1 / 2

**Оценка задания.** Максимальная оценка за правильно выполненное задание – 6 баллов, при этом:

- за правильный ответ по каждой из трех позиций, указанных в варианте ответа, начисляется по 2 балла;
- при отсутствии правильных ответов баллы не начисляются.

*105* **Задание 5 [10 баллов]** Соотнесите масштабы чрезвычайных ситуаций с соответствующими характеристиками.

Масштаб ЧС		Характеристика ЧС	
А	Местная	1	масштаб и последствия ЧС охватывают территорию 2 – 3-х субъектов РФ
Б	Глобальная	2	масштаб и последствия ЧС ограничиваются пределами населенного пункта
В	Федеральная	3	распространение ЧС не выходит за пределы производственного помещения
Г	Локальная	4	масштаб и последствия ЧС выходят за пределы 4-х и более субъектов РФ
Д	Региональная	5	масштаб и последствия ЧС выходят за пределы государства

Ответ:

А	Б	В	Г	Д
2 / 2	5 / 2	4 / 2	3 / 2	1 / 2

**Оценка задания.** Максимальная оценка за правильно выполненное задание – 10 баллов, при этом:

- за правильный ответ по каждой из пяти позиций, указанных в варианте ответа, начисляется по 2 балла;
- при отсутствии правильных ответов баллы не начисляются.

*— 455*

*≈ 915*

*Заведующий / заместитель А.А.*