

Всероссийская олимпиада школьников
по Основам безопасности и защиты Родины
2024–2025 учебный год
Школьный этап

Задания для участников 10–11 классов
Общее время выполнения заданий – 45 минут.
Максимальный балл за выполнение всех заданий – 100 баллов.

ШИФР 053Р-11-4

918

Дорогие ребята!

При выполнении заданий Вам предстоит выполнить определённую работу, которую лучше организовать следующим образом:

- внимательно прочитайте задание;
- если Вы отвечаете на теоретический вопрос или решаете ситуационную задачу, обдумайте и сформулируйте конкретный ответ (ответ должен быть кратким, его содержание требуется вписать в отведённое поле, писать следует чётко и разборчиво);
- при ответе на тесты определите верный ответ и обведите кружком, букву (буквы), соответствующую (-ие) выбранному Вами ответу.

За каждый правильный ответ Вы можете получить определённое членами жюри количество баллов, не выше указанной максимальной оценки.

Сумма набранных баллов за все решённые вопросы в двух форматах – итог Вашей работы. Максимальное количество баллов – 100.

Задания считаются выполненными, если Вы вовремя сдали их членам жюри.

Желаем удачи!

Тестовые задания

Определите один правильный ответ, обведите его кружком.

За правильный ответ начисляется 2 балла.

- 2 1. Что означает международный отличительный знак три оранжевых круга:
- а) нейтральная зона
 - б) особая защита культурных ценностей
 - в) гражданская оборона
 - г) установки и сооружения содержащие опасные силы
- 0 2. Основной документ по развитию системы национальной безопасности на основе официально признанной системы стратегических приоритетов внутренней и внешней политики, определяющих состояние национальной безопасности и уровень устойчивого развития государства на долгосрочную перспективу – это...
- а) Федеральный закон Российской Федерации «О гражданской обороне»
 - б) Конституция Российской Федерации
 - в) Военная доктрина Российской Федерации
 - г) Стратегия национальной безопасности Российской Федерации
- 2 3. Наиболее распространенной причиной гибели пострадавших от тяжелых травм при ДТП является:
- а) несвоевременное прибытие скорой помощи
 - б) безучастность и безграмотность очевидцев
 - в) отсутствие аптечки
 - г) удаленность от больниц или других мед учреждений
- 0 4. К поражающим факторам пожара относятся:
- а) интенсивное излучение гамма-лучей, поражающее людей
 - б) разрушение зданий и поражение людей за счет смещения поверхностных слоев земли
 - в) открытый огонь, токсичные продукты горения
 - г) образование облака зараженного воздуха
- 2 5. Удаление радиоактивных веществ с зараженной поверхности называется:
- а) дегазация
 - б) дезактивация
 - в) дезинфекция
 - г) адсорбция
- 2 6. Проходя через организм человека, электрический ток может вызывать:
- 1) термическое действие 2) электролитическое действие
- а) верно только 1
 - б) верно только 2
 - в) верны оба суждения
 - г) оба суждения не верны
- 2 7. Противогаз надевается по команде «Газы!». После получения команды в первую очередь необходимо:
- а) задержать дыхание
 - б) вынуть противогаз из сумки
 - в) снять головной убор
 - г) сделать полный выдох

2 8. Невидимый поток радиоактивных частиц альфа-, бета-, гамма-излучений, который характеризуется различной проникающей способностью при торможении заряженных частиц в веществе, в разных средах, определяющей их радиоактивность?

- а) проникающая радиация
- б) световое излучение
- в) радиоактивное загрязнение местности
- г) ударная волна

2 9. Если вы обнаружили неизвестный, подозрительный предмет в общественном транспорте, какое правильное действие необходимо предпринять?

- а) немедленно покинуть транспортное средство
- б) подойти осмотреть, вскрыть предмет на наличие признаков взрывного устройства
- в) предпринять меры к тому, чтобы люди отошли как можно дальше от подозрительного предмета
- г) доложить немедленно водителю или кондуктору о данном предмете, попросить остановить транспортное средство

2 10. Имобилизация, изображенная на рисунке, выполняется при переломе(ах):

- а) шеи
- б) плечевой кости
- в) позвоночника
- г) костей кисти



Определите все правильные ответы.

За каждый правильный ответ начисляется 2 балла.

4 11. Назовите заболевания, которые могут передаваться половым путем:

- а) СПИД
- б) холера
- в) гонорея
- г) дерматит
- д) пневмония

4 12. Такие признаки как: боль, отёк, деформация в месте повреждения, укорочение пострадавшей конечности, могут наблюдаться при следующих повреждениях:

- а) ушиб
- б) растяжение связок
- в) разрыв связок
- г) перелом
- д) вывих

4 13. В случае возгорания мусора в корзине следует:

- а) накрыть корзину плотной тканью
- б) выбросить корзину в окно
- в) залить корзину водой
- г) высыпать содержимое и тушить на полу
- д) перевернуть корзину

4 14. Какое значение имеет визуальный сигнал и к какому типу он относится?

- а) «воздух–земля»
- б) отрицательно – «нет»
- в) «земля–воздух»
- г) «садитесь здесь»
- д) «земля–земля»
- е) утвердительно – «да»



4 15. Как должен себя вести человек, если он оказался заложником?

- а) не создавать конфликтных ситуаций, не смотреть преступникам в глаза
- б) не привлекая к себе лишнего внимания, постараться убежать
- в) если есть возможность самостоятельно обезвредить преступников
- г) попытаться вступить в переговоры с террористами
- д) выполнять требования преступников, сохранять психологическую устойчивость

4 16. Какие из перечисленных признаков являются характерными для инфаркта?

- а) кашель
- б) одышка
- в) нарушение речи
- г) боль за грудиной
- д) асимметрия лица

4 17. При движении организованных пешеходных колонн по проезжей части в тёмное время суток спереди и сзади колонны с левой стороны должны находиться сопровождающие с включёнными фонарями

- а) спереди – зеленого цвета
- б) сзади – оранжевого цвета
- в) сзади – красного цвета
- г) сзади – жёлтого цвета
- д) спереди – белого цвета

2 18. Если руки регулировщика вытянуты в стороны или опущены, то:

- а) со стороны левого бока разрешено движение трамвая налево, безрельсовым транспортным средствам во всех направлениях
- б) со стороны левого и правого бока разрешено движение трамвая прямо, безрельсовым транспортным средствам прямо и направо, пешеходам разрешено переходить проезжую часть
- в) со стороны груди всем транспортным средствам разрешено движение только направо
- г) со стороны груди и спины движение всех транспортных средств и пешеходов запрещено
- д) пешеходам разрешено переходить проезжую часть за спиной регулировщика

300

≈ 460

Теоретические задания

105 Задание 1 [10 баллов] Опишите категории пригодности к военной службе.

Категории пригодности к военной службе	Описание
2 Категория А	Здоров, может служить в любых войсках
2 Категория Б	имеет незначительные проблемы со здоровьем, годен с ограничениями
2 Категория В	имеет серьезные проблемы со здоровьем, подлежит призыву только в военное время
2 Категория Г	временно не подлежит призыву по состоянию здоровья, получает отсрочку на 6-12 месяцев
2 Категория Д	состояние здоровья не позволяет служить

Оценка задания. Максимальная оценка за правильно выполненное задание – 10 баллов, при этом:

- за правильный ответ по каждой из пяти позиций, указанных в варианте ответа, начисляется по 2 балла;
- при отсутствии правильных ответов баллы не начисляются.

95 Задание 2 [12 баллов] Дайте характеристику различных степеней ожога.






Степени ожога	Описание
2 I степень ожога	покраснение кожи, припухлость
2 II степень ожога	появление пузырей
2 III степень ожога	на месте ожога образуется струпа
3 IV степень ожога	обугливание кожи

Оценка задания. Максимальная оценка за правильно выполненное задание – 12 баллов, при этом:

- за правильный ответ по каждой из четырех позиций, указанных в варианте ответа, начисляется по 3 балла;
- при отсутствии правильных ответов баллы не начисляются.

105 Задание 3 [10 баллов] Соотнесите погоны военнослужащих и соответствующие им воинские звания.

Ответ запишите в таблицу.

Погоны		Звания	
А		1	сержант
Б		2	капитан
В		3	ефрейтор
Г		4	майор
Д		5	старший прапорщик

Ответ:

А	Б	В	Г	Д
3 / 2	4 / 2	5 / 2	2 / 2	1 / 2

Оценка задания. Максимальная оценка за правильно выполненное задание – 10 баллов, при этом:

- за правильный ответ по каждой из пяти позиций, указанных в варианте ответа, начисляется по 2 балла;
- при отсутствии правильных ответов баллы не начисляются.

68 Задание 4 [6 баллов] Установите соответствие между названием узлов и их назначением, вписав ответ в таблицу.

Название узла		Назначение	
А	Грейпвайн, встречный	1	для крепления верёвки к опоре или карабину
Б	Штык, булинь, австрийский проводник	2	вспомогательные узлы
В	Стремя, проводник	3	для связывания верёвок одинакового диаметра

Ответ:

А	Б	В
3 / 2	2 / 2	1 / 2

Оценка задания. Максимальная оценка за правильно выполненное задание – 6 баллов, при этом:

- за правильный ответ по каждой из трех позиций, указанных в варианте ответа, начисляется по 2 балла;
- при отсутствии правильных ответов баллы не начисляются.

105 **Задание 5 [10 баллов]** Соотнесите масштабы чрезвычайных ситуаций с соответствующими характеристиками.

Масштаб ЧС		Характеристика ЧС	
А	Местная	1	масштаб и последствия ЧС охватывают территорию 2 – 3-х субъектов РФ
Б	Глобальная	2	масштаб и последствия ЧС ограничиваются пределами населенного пункта
В	Федеральная	3	распространение ЧС не выходит за пределы производственного помещения
Г	Локальная	4	масштаб и последствия ЧС выходят за пределы 4-х и более субъектов РФ
Д	Региональная	5	масштаб и последствия ЧС выходят за пределы государства

Ответ:

А	Б	В	Г	Д
2 / 2	5 / 2	4 / 2	3 / 2	1 / 2

Оценка задания. Максимальная оценка за правильно выполненное задание – 10 баллов, при этом:

- за правильный ответ по каждой из пяти позиций, указанных в варианте ответа, начисляется по 2 балла;
- при отсутствии правильных ответов баллы не начисляются.

— 455

≈ 915

Занят / Занятых А.А.