

**Всероссийская олимпиада школьников по истории
2023/24 учебный год
Школьный этап**

Задания для участников 5-х классов

Инструкция по выполнению работ

Время на выполнение работы – 45 минут.

Максимальное количество баллов – 75.

Уважаемый участник!

При выполнении работы внимательно читай текст заданий. Содержание ответа вписывай в отведённые поля, записи веди чётко и разборчиво.

За каждый правильный ответ можно получить определённое количество баллов, но не выше указанной максимальной оценки. Сумма набранных баллов за все решённые вопросы – итог работы.

Задания считаются выполненными, если Вы вовремя сдали их членам жюри.

Желаем успеха!

Шифр Ш 44 - И 5 - 09

Таблица для внесения баллов заполняется членами жюри

1	2	3	4	5	6	7	8	9	10	Общая сумма баллов	Место
0	5	5	12	9	4	6	3	0	4	48	призёр

Задание 1. (Максимум за задание – 3 балла). Перед вами фотографии, иллюстрирующие различные эпохи истории человечества. Выберите номера изображений, связанных с историей Древнего мира.

①



2





③



④





Ответ: 1,3,6,4,5 0

Задание 2. (Максимум за задание – 6 баллов, за каждый правильный ответ 1 балл). Верны ли следующие утверждения («да» – «нет»)? Ответы внесите в таблицу.

- 2.1. Около 2,5 млн лет назад появились люди, по своему облику похожие на современного человека.
- 2.2. Самая длительная эпоха в истории человечества – Новое время.
- 2.3. Золото было основным металлом, из которого производили орудия труда первобытные люди.
- 2.4. Коллектив кровных родственников назывался родовой общиной.
- 2.5. Люди эпохи палеолита уже умели пользоваться огнем.
- 2.6. Первым одомашненным животным была лошадь.

Ответ:

2.1	2.2	2.3	2.4	2.5	2.6
нет 1	да 0	нет 1	да 1	да 1	нет 1

5

Задание 3. (Максимум за задание – 5 баллов). Расставьте годы и века в верной хронологической последовательности.



- 1) II век до н. э. 2) 478 год до н. э. 3) 1945 год н. э. 4) XII век н.э. 5) 2023 год н.э.

Ответ:

А	Б	В	Г	Д
478 год	II век	XII век	1945 год	2023 год

5

Задание 4. (Максимум за всё задание 12 баллов). Перед вами различные изобретения человека, созданные им с древнейших времён до наших дней. Рассмотрите изображения и выполните задания.



Ответ: 1,3,6,4,5 0

Задание 2. (Максимум за задание – 6 баллов, за каждый правильный ответ 1 балл). Верны ли следующие утверждения («да» – «нет»)? Ответы внесите в таблицу.

- 2.1. Около 2,5 млн лет назад появились люди, по своему облику похожие на современного человека.
- 2.2. Самая длительная эпоха в истории человечества – Новое время.
- 2.3. Золото было основным металлом, из которого производили орудия труда первобытные люди.
- 2.4. Коллектив кровных родственников назывался родовой общиной.
- 2.5. Люди эпохи палеолита уже умели пользоваться огнем.
- 2.6. Первым одомашненным животным была лошадь.

Ответ:

2.1	2.2	2.3	2.4	2.5	2.6
нет 1	да 0	нет 1	да 1	да 1	нет 1

5

Задание 3. (Максимум за задание – 5 баллов). Расставьте годы и века в верной хронологической последовательности.

- 1) II век до н. э. 2) 478 год до н. э. 3) 1945 год н. э. 4) XII век н.э. 5) 2023 год н.э.

Ответ:

А	Б	В	Г	Д
478 год	II век	XII век	1945 год	2023 год

5

Задание 4. (Максимум за всё задание 12 баллов). Перед вами различные изобретения человека, созданные им с древнейших времён до наших дней. Рассмотрите изображения и выполните задания.

4.2. Расположите представленные предметы в порядке их изобретения человеком. В таблицу ниже выпишите буквы, которыми обозначены названия данных изобретений.







Ответ:

1	2	3	4	5	6
Г	Д	Е	Ж	Б	А

Максимум за задание – 6 баллов. За каждую верную пару – 1 балл

Задание 5. (Максимум за всё задание 8 баллов) Перед вами фотографии, иллюстрирующие деятельность историков.

5.1. Выберите номера изображений, связанных с работой археологов и запишите их.

1 	2 
3 	4 
5 	6 

5.1 Ответ: 3, 4, 5 Максимум за задание – 3 балла.

36

- Выбери верные и неверные утверждения. Ответы («да» – «нет») вноси в таблицу.
- Все профессии ученых, изображенных на картинке, связаны с археологией.
- Работа этих ученых связана с изучением жизни современных людей.
- В своей работе ученые - археологи используют лопаты и кисточки.
- В ходе работы ученые проводят раскопки.
- Ученые этой профессии изучают здания, украшения, наскальные рисунки, захоронения, оружие.

Ответ:

1	2	3	4	5
нет	нет	да	да	да

5б

Максимум за задание – 5 баллов. За каждое верно выбранное утверждение – 1 балл.

Задание 6. (Максимум за задание - 6 баллов, 2 балла за каждый правильный вывод). Прочитайте описание погребения, обнаруженного археологами на знаменитой стоянке Сунгирь во Владимирской области.

«Второе погребение, расположенное под первым, принадлежало взрослому мужчине. Покойник лежал на спине в вытянутом положении. При нем были положены кремневый нож, скребло и обломок костяного предмета. Скелет был густо засыпан охрой, и на нем лежали многочисленные бусы из бивня мамонта. Размещение бус, сохранивших первоначальное положение, позволило реконструировать одежду. Костюм состоял из нераспашной рубахи, штанов, соединённых с обувью, и, возможно, плаща. На голове была надета шапка, богата украшенная бусами из бивня и просверленных клыков песца. На руках были тонкие браслеты из бивня и нитки бус. Под коленями и на щиколотках также прослежены перевязки из связок бус. По внутренней стороне ног нашитые бусы образовывали длинные лампасы, соединяющие штаны и обувь. Всего было нашито свыше 3 500 бусин».

Что можно из этого описания узнать о жизни, занятиях, верованиях людей, которые оставили этот памятник? **Сделайте 3 вывода.**

1. Из описания бус, одежды, найденных фрагментов, это было их занятие.

2. Люди знали, что если положить в гроб охру, бусы и украшения, то это окажется в изгнании мертвых и поможет им.

3. Врасшире если посмотреть, то люди занимались изготовлением украшений, одежды и положили это все в гроб.

Задание 7. (Максимум за задание 16 баллов, по 2 балла за каждую найденную и исправленную ошибку). Найдите 8 исторических ошибок в сочинении ученика и исправьте их, заполнив таблицу.

Около 12 тысяч лет назад в природе ничего не изменилось. Похолодало, ледник стал быстро таять и отступать на юг. Приспособиться к новым условиям было легко и просто. Ломался тысячелетний уклад жизни. Пришлось осваивать охоту на крупного хищного зверя. Люди стали селиться в крупные пещеры, катакомбы. В поисках пищи племенам надо было оставаться на одном месте. Было изобретено первое механическое оружие - копье с каменным наконечником

	Ошибка	Исправление
1	Много чего изменилось.	Ничего не изменилось. 2
2	Было сложно и тяжело.	Было легко и просто. 2
3	Нельзя оставаться на 1 месте.	Надо было оставаться на 1 месте. 2
4	Около 40 тысяч лет назад.	Около 12 тысяч лет назад. 0
5	Люди жили дома или жили в пещерах.	Люди жили в пещерах и катакомбах. 0
6	Первое оружие палка которую заточивали в ^{конце} .	Первым оружием было копье. 0
7		
8		

6

Задание 8. (Максимум за задание – 5 баллов)

Решите задачи. ОБЯЗАТЕЛЬНО напишите арифметические действия.

В 1900 году археологами был раскопан могильник вождя, где найдены остатки посуды из драгоценных камней, золотые и серебряные сосуды. Установлено, что захоронение было сделано за 7240 лет до его находки археологами. В каком году был захоронен вождь? Запишите решение и ответ. (2 балла)

Решение

$$7240 - 1900 = 5340$$

Ответ: 5340

30

2) Считается, что первую пирамиду зодчий Имхотеп начал строить в 2750 г. до н.э. Последние пирамиды построены в 1700 г. до н. э. Сколько лет прошло между постройкой первой и последней пирамиды? Сколько лет назад были построены последние пирамиды? Приведите свои вычисления. (3 балла)

Решение $2750 - 1700 = 1050$

Ответ: 10,5 лет.

Задание 9. (Максимум за задание – 5 баллов)

Прочитайте стихотворение В.Д. Берестова. Выполните задания.

Раз первобытные дети Пошли в первобытный лес. И первобытное солнце Глядело на них с небес. И встретили дети в чаще Неведомого зверька, Какого ещё ни разу Не видывали пока. Сказал первобытный папа: «Ну, что ж, поиграйте с ним, Когда он будет побольше, Мы вместе его съедим».	Ночь. Первобытные люди Спят первобытным сном, А первобытные волки, Крадутся во мраке ночном. Беда первобытным людям Во сне беззащитным таким. Как часто звериное брюхо – Могилою делалось им. Но злых людоедов почуяв, Залаял отважный зверёк.	И этим людей первобытных От гибели он уберёт С папой ходить на охоту Он начал, когда подрос. Так другом стал человеку Весёлый и верный пёс
--	---	--

9.1 Напишите, о возникновении какого занятия древних людей идёт речь (1

Охота.

9.2 Укажите, когда это занятие возникло (1 балл)

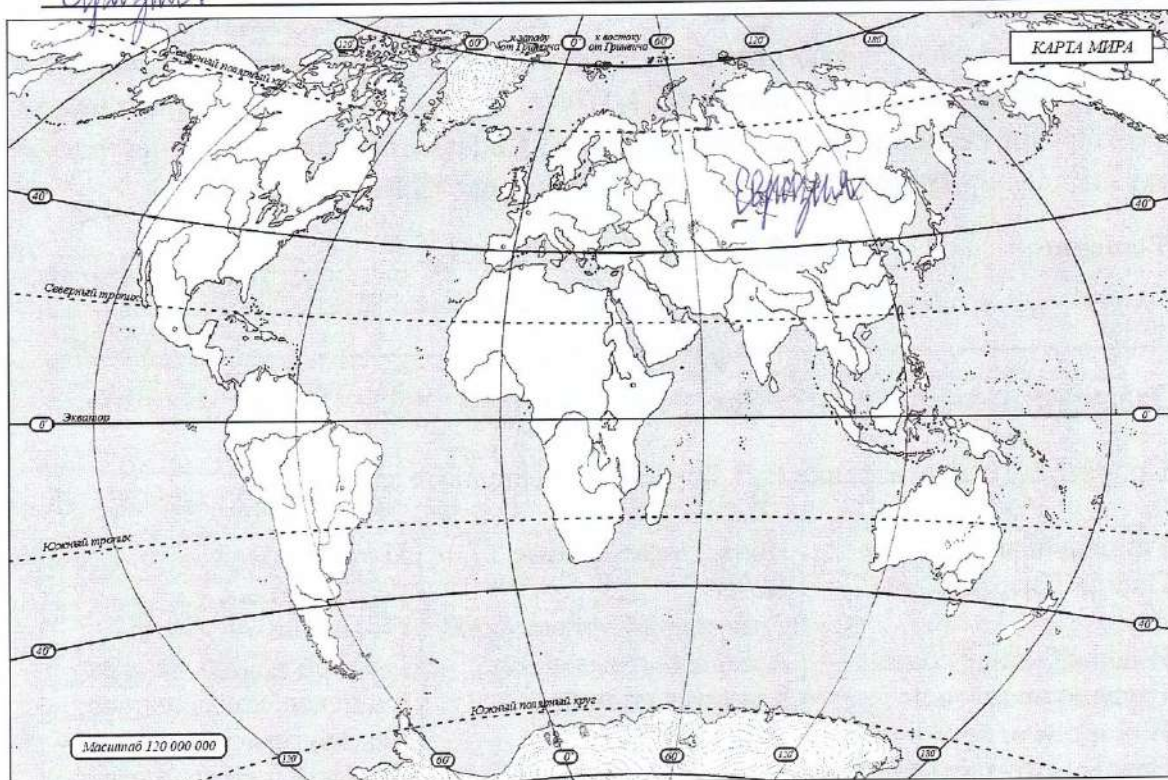
Охота - возникла в древние времена.

9.3 Укажите не менее двух других животных, которых приручил человек в числе первых. (2 балла)

Молочная корова, лошадь.

9.4 Напишите на карте название материка, который первобытные герои стихотворения могут назвать своей «прародиной». (1 балл)

Евразия.



Задание 10. Выясни, насколько ты знаком с историей своей «малой родины» Югры. (Максимум за задание – 9 баллов).

10.1. Коренные народы Югры – ханты, манси и ненцы – всегда относились к природе с любовью и уважением. Местом религиозного почитания становились целые ландшафты в форме священных урочищ, где запрещались промыслы. Выбери священные места, где у коренных жителей Югры были запрещены промыслы. (2 балла)

1. Народная гора 2. Озеро Нумто 3. Барсова гора 4. Озеро Щучье




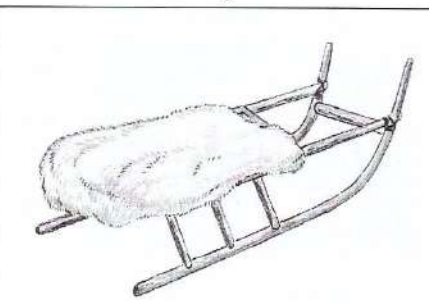
Ответ: 1, 4, 2

10.2 Выбери из списка профессиональные праздники, особо значимые для жителей Югры. (3 балла)

1. День моряка-подводника
2. День металлурга
3. День нефтяника
4. День работника атомной промышленности
5. День оленевода
6. День речного и морского флота

Ответ: 1, 5, 6

10.3. Соотнеси названия предметов быта коренных народов Севера с изображениями этих предметов, вписав в таблицу их номера. (4 балла)

1	2
	
3	4
	

Ответ:

облас	чум	нарты	лабаз
2	1	4	3

**Всероссийская олимпиада школьников по истории
2023/24 учебный год
Школьный этап**

Задания для участников 5-х классов

Инструкция по выполнению работ

Время на выполнение работы – 45 минут.
Максимальное количество баллов – 75.

Уважаемый участник!

При выполнении работы внимательно читай текст заданий. Содержание ответа вписывай в отведённые поля, записи веди чётко и разборчиво.

За каждый правильный ответ можно получить определённое количество баллов, но не выше указанной максимальной оценки. Сумма набранных баллов за все решённые вопросы – итог работы.

Задания считаются выполненными, если Вы вовремя сдали их членам жюри.

Желаем успеха!

Шифр Ш44-45-14

Таблица для внесения баллов заполняется членами жюри

1	2	3	4	5	6	7	8	9	10	Общая сумма баллов	Место
3	6	5	12	8	4	2	0	0	6	46	

Задание 1. (Максимум за задание – 3 балла). Перед вами фотографии, иллюстрирующие различные эпохи истории человечества. Выберите номера изображений, связанных с историей Древнего мира.

1



2



3




4



5



6



Ответ: 1, 3, 6

Задание 2. (Максимум за задание – 6 баллов, за каждый правильный ответ 1 балл). Верны ли следующие утверждения («да» – «нет»)? Ответы внесите в таблицу.

- 2.1. Около 2,5 млн лет назад появились люди, по своему облику похожие на современного человека.
 2.2. Самая длительная эпоха в истории человечества – Новое время.
 2.3. Золото было основным металлом, из которого производили орудия труда первобытные люди.
 2.4. Коллектив кровных родственников назывался родовой общиной.
 2.5. Люди эпохи палеолита уже умели пользоваться огнем.
 2.6. Первым одомашненным животным была лошадь.

Ответ:

2.1	2.2	2.3	2.4	2.5	2.6
нет	нет	нет	да	да	нет





Задание 3. (Максимум за задание – 5 баллов). Расставьте годы и века в верной хронологической последовательности.

- 1) II век до н. э. 2) 478 год до н. э. 3) 1945 год н. э. 4) XII век н.э. 5) 2023 год н.э.

Ответ:

А	Б	В	Г	Д
2)	1)	4)	3)	5)

Задание 4. (Максимум за всё задание 12 баллов). Перед вами различные изобретения человека, созданные им с древнейших времён до наших дней. Рассмотрите изображения и выполните задания.



4.1. Соотнесите изображения предметов с их названиями.

Номер изображения предмета	Название изобретения
1	А. персональный компьютер
2	Б. паровой двигатель (паровая машина)
3	В. бензиновый двигатель внутреннего сгорания
4	Г. деревянный плуг
5	Д. шадуф
6	Е. ручной книгопечатный станок

Ответ:

1	2	3	4	5	6
г	б	в	д	а	е

Максимум за задание – 6 баллов. За каждую верную пару – 1 балл

4.2. Расположите представленные предметы в порядке их изобретения человеком. В таблицу ниже выпишите буквы, которыми обозначены названия данных изобретений.







Ответ:

1	2	3	4	5	6
л	д	е	о	б	а

Максимум за задание – 6 баллов. За каждую верную пару – 1 балл

Задание 5. (Максимум за всё задание 8 баллов) Перед вами фотографии, иллюстрирующие деятельность историков.

5.1. Выберите номера изображений, связанных с работой археологов и запишите их.

1 	2 
3 	4 
5 	6 

5.1 Ответ: 3, 4, 5 Максимум за задание – 3 балла.

5.2. Выбери верные и неверные утверждения. Ответы («да» – «нет») вноси в таблицу.

1. Все профессии ученых, изображенных на картинке, связаны с археологией.
2. Работа этих ученых связана с изучением жизни современных людей.
3. В своей работе ученые - археологи использует лопаты и кисточки.
4. В ходе работы ученые проводят раскопки.
5. Ученые этой профессии изучают здания, украшения, наскальные рисунки, захоронения, оружие.

Ответ:

1	2	3	4	5
нет	нет	да нет	да	да

Максимум за задание – 5 баллов. За каждое верно выбранное утверждение – 1 балл.

Задание 6. (Максимум за задание - 6 баллов, 2 балла за каждый правильный вывод). Прочитайте описание погребения, обнаруженного археологами на знаменитой стоянке Сунгирь во Владимирской области.

«Второе погребение, расположенное под первым, принадлежало взрослому мужчине. Покойник лежал на спине в вытянутом положении. При нем были положены кремневый нож, скребло и обломок костяного предмета. Скелет был густо засыпан охрой, и на нем лежали многочисленные бусы из бивня мамонта. Размещение бус, сохранивших первоначальное положение, позволило реконструировать одежду. Костюм состоял из нераспашной рубахи, штанов, соединённых с обувью, и, возможно, плаща. На голове была надета шапка, богата украшенная бусами из бивня и просверленных клыков песца. На руках были тонкие браслеты из бивня и нитки бус. Под коленями и на щиколотках также прослежены перевязки из связок бус. По внутренней стороне ног нашитые бусы образовывали длинные лампасы, соединяющие штаны и обувь. Всего было нашито свыше 3 500 бусин».

Что можно из этого описания узнать о жизни, занятиях, верованиях людей, которые оставили этот памятник? Сделайте 3 вывода.

1. Был ли человек богат, или не очень.

2. Запечатлелся человек охотой олень, лоса, или нет.

3. Можно было найти с большим количеством кошачьих лап, хвостов, или смышью отложения зубов, в которых они были

Задание 7. (Максимум за задание 16 баллов, по 2 балла за каждую найденную и исправленную ошибку). Найдите 8 исторических ошибок в сочинении ученика и исправьте их, заполнив таблицу.

Около 12 тысяч лет назад в природе ничего не изменилось. Похолодало, ледник стал быстро таять и отступать на юг. Приспособиться к новым условиям было легко и просто. Ломался тысячелетний уклад жизни. Пришлось осваивать охоту на крупного хищного зверя. Люди стали селиться в крупные пещеры, катакомбы. В поисках пищи племенам надо было оставаться на одном месте. Было изобретено первое механическое оружие - копье с каменным наконечником

Ошибка	Исправление
1 Катакомбы	тогда еще не было катакомб
2 Около 12 тысяч лет назад ничего не изменилось	Около 12 ть
3	
4	
5	
6	
7	
8	

Задание 8. (Максимум за задание – 5 баллов)

Решите задачи. **ОБЯЗАТЕЛЬНО** напишите арифметические действия.

1) В 1900 году археологами был раскопан могильник вождя, где найдены остатки бус из драгоценных камней, золотые и серебряные сосуды. Установлено, что захоронение было сделано за 7240 лет до его находки археологами. В каком году был захоронен вождь? Запишите решение и ответ. (2 балла)

Решение

2) Считается, что первую пирамиду зодчий Имхотеп начал строить в 2750 г. до н.э. Последние пирамиды построены в 1700 г. до н. э. Сколько лет прошло между постройкой первой и последней пирамиды? Сколько лет назад были построены последние пирамиды? Приведите свои вычисления. (3 балла)

Решение

Задание 9. (Максимум за задание – 5 баллов)

Прочитайте стихотворение В.Д. Берестова. Выполните задания.

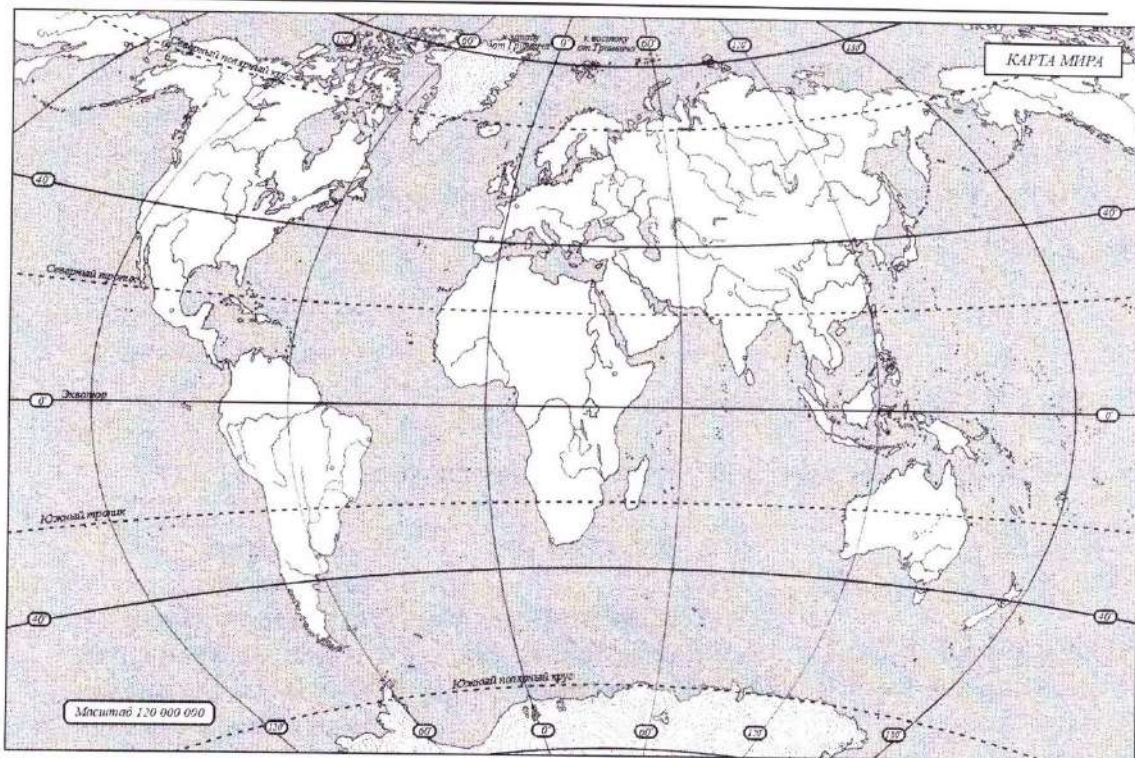
Раз первобытные дети Пошли в первобытный лес. И первобытное солнце Глядело на них с небес. И встретили дети в чаще Неведомого зверька, Какого ещё ни разу Не видывали пока. Сказал первобытный папа: «Ну, что ж, поиграйте с ним, Когда он будет побольше, Мы вместе его съедим».	Ночь. Первобытные люди Спят первобытным сном, А первобытные волки, Крадутся во мраке ночном. Беда первобытным людям Во сне беззащитным таким. Как часто звериное брюхо – Могилою делалось им. Но злых людоедов почуяв, Залаял отважный зверёк.	И этим людей первобытных От гибели он уберёт С папой ходить на охоту Он начал, когда подрос. Так другом стал человеку Весёлый и верный пёс
--	---	--

9.1 Напишите, о возникновении какого занятия древних людей идёт речь (1 балл)

9.2 Укажите, когда это занятие возникло (1 балл)

9.3 Укажите не менее двух других животных, которых приручил человек в числе первых. (2 балла)

9.4 Напишите на карте название материка, который первобытные герои стихотворения могут назвать своей «прародиной». (1 балл)



Задание 10. Выясни, насколько ты знаком с историей своей «малой родины» Югры. (Максимум за задание – 9 баллов).

10.1. Коренные народы Югры – ханты, манси и ненцы – всегда относились к природе с любовью и уважением. Местом религиозного почитания становились целые ландшафты в форме священных урочищ, где запрещались промыслы. Выбери священные места, где у коренных жителей Югры были запрещены промыслы. (2 балла)

1. Народная гора 2. Озеро Нумто 3. Барсова гора 4. Озеро Щучье





Ответ: _____

10.2 Выбери из списка профессиональные праздники, особо значимые для жителей Югры. (3 балла)

1. День моряка-подводника
2. День металлурга
3. День нефтяника
4. День работника атомной промышленности
5. День оленевода
6. День речного и морского флота

Ответ: 3, 5

10.3. Соотнеси названия предметов быта коренных народов Севера с изображениями этих предметов, вписав в таблицу их номера. (4 балла)

1	2
	
3	4
	

Ответ:

облас	чум	нарты	лабаз
<u>2</u>	<u>1</u>	<u>4</u>	<u>3</u>

ВСЕГО 75 БАЛЛОВ.

Всероссийская олимпиада по истории
2023–2024 учебный год
Школьный этап

7 класс

Шифр Ш44-47-06

Уважаемый участник!

Время на выполнение работы – 90 минут.
Максимальное количество баллов – 100.

При выполнении работы внимательно читайте текст заданий.
Содержание ответа вписывайте в отведённые поля, записи ведите чётко и разборчиво.
Сумма набранных баллов за все решённые вопросы – итог вашей работы.
Задания считаются выполненными, если вы вовремя сдали их членам жюри.

Желаем успеха!

Таблица для внесения баллов заполняется членами жюри

1	2	3	4	5	6	7	8	9	10	11	12	13	Сумма баллов	Место
10	0	6	6	6	4	6	5	2	4	13	4	4	70	

Задание 1. Выберите правильный ответ. Ответ внесите в таблицу. (По 2 балла за правильный ответ. Максимум 10 баллов.)

1.1. Прочтите отрывок из источника и укажите название документа, с которым он связан.
«Если холоп (раб, зависимый человек) ударит свободного мужа и скроется в хороме своего господина, а тот не захочет его выдавать, то оставляет холопа у себя и платит оскорблённому 12 гривен; а затем, если где встретит ударенный оскорбителя (холопа), то вправе побить его».

- 1) Русская Правда; 2) Судебник 1497 г.;
 3) Салическая Правда; 4) Великая хартия вольностей.

1.2. Стремление укрепить государственную власть заставило князя Владимира:

- 1) учредить погосты и уроки; 2) принять христианство;
3) создать «Русскую Правду»; 4) убить киевских князей Аскольда и Дира.

1.3. Кому принадлежат слова?

«Англичане будут изгнаны из Франции, кроме тех, кто найдёт здесь гибель.... Бог пошлёт французам победу над англичанами!»

- 1) Жанне д'Арк; 2) Чёрному принцу; 4) Людовику XI; 3) Хлодвигу.

1.4. Прочитайте отрывок из произведения древнерусской литературы и укажите название этого произведения.

«В лето 862. Изгнали варягов за море, и не дали им дани, и начали сами собой владеть, и не было среди них правды, и встал род на род, и была у них усобица, и стали воевать друг с другом. И сказали себе:

- Поищем себе князя, который бы владел нами и судил по праву.

И пошли за море к варягам, к руси. Сказали руси чудь, словене, кривичи и весь:

- Земля наша велика и обильна, а наряда в ней нет. Приходите княжить и владеть нами!

И избрались трое братьев со своими родами, и пришли, сел старший Рюрик, в Новгороде, а другой, Синеус, - на Белоозере, а третий, Трувор, - в Изборске. И от тех варягов прозвалась Русская земля».

- 1) «Поучение детям»; 2) «Апостол»;
 3) «Русская правда»; 4) «Повесть временных лет».

1.5. Прочитайте фрагмент исторического источника и определите, о каком историческом событии идёт речь.

«О, долго Англия была безумна,
 Сама себя терзала в исступленье:
 Брат брата убивал в слепом бою,
 Отец убийцей был родного сына,
 Сын по приказу убивал отца.
 Повинны в этом Йорки и Ланкастеры:
 Раздор их дикий рвал на части мир».

- 1) Столетняя война; 2) Реконкиста;
 3) Война Алой и Белой розы; 4) Гуситское движение.

Ответы:

1	2	3	4	5

Задание 2. Выберите несколько правильных вариантов ответов на поставленные вопросы. Ответ внесите в таблицу. (3 балла за полностью верный ответ; 1 балл за ответ с одной ошибкой (не указан один из верных ответов или наряду с указанными всеми верными ответами приводится один неверный). Всего за задания 9 баллов)

2.1. Кто из указанных деятелей культуры и науки жил в эпоху раннего Возрождения?

- 1) Иоганн Гутенберг; 2) Франческо Петрарка; 3) Авиценна;
 4) Сандро Боттичелли; 5) Альберт Эйнштейн; 6) Алкуин.

2.2. Какие из категорий населения, перечисленных в «Русской Правде», относятся к зависимым людям?

- 1) дружинник; 2) рядович; 3) огнищанин; 4) холоп; 5) муж; 6) закуп

2.3. Выберите из предложенного перечня события, относящиеся к XIII в.

- 1) создание «Правды» Ярославичей; 2) Ледовое побоище;
 3) Куликовская битва; 4) Невская битва;
 5) битва на реке Сить; 6) съезд князей в Любече.

Ответы:

1	2	3
5	2	4

Задание 3. Что с исторической точки зрения объединяет перечисленные в ряду элементы? (По 3 балла за каждый верный ответ. Максимум за задание 9 баллов).

3.1. Дмитрий Иванович, Дмитрий Боброк, Владимир Андреевич Серпуховской

Ответ:

Куликовская битва

3.2. Стрибог, Перун, Ярило.

Ответ: Боги

3.3. 1478 г., 1485 г., 1510 г

Ответ: Объединение Руси в централизованное Русское государство

Задание 4. Выберите лишний элемент из предложенного списка и поясните свой выбор.
(По 3 балла за каждый верный ответ. Всего за задание 6 баллов)

4.1. Дреговичи, поляне, древляне, половцы.

Ответ: Половцы; всё остальное это славяне.

4.2. Баскак, ярлык, вече, выход.

Ответ: Вече; древнее собрание на Руси

Задание 5. Расположите события в хронологической последовательности. Ответ внесите в таблицу. (6 баллов за полностью верную последовательность. 3 балла за последовательность с одной ошибкой. 0 баллов, если допущено более одной ошибки)

А) начало правления Ивана III; Б) провозглашение Карла Великого императором;
В) языческая реформа князя Владимира; Г) захват Константинополя турками;
Д) первое упоминание о Москве в летописи; Е) принятие Судебника при Иване III.

Ответы:

1	2	3	4	5	6
Б	В	Д	Г	А	Е

Задание 6. Установите соответствие между событиями и древнерусскими князьями, в чье правление они произошли. В перечне справа есть лишняя характеристика
(1 балл за каждое верное соответствие. Максимум 4 балла.)

СОБЫТИЯ	ДРЕВНЕРУССКИЕ КНЯЗЬЯ
А) введение погостов и уроков	1) Олег
Б) объединение Новгорода и Киева под властью одного правителя	2) Владимир Мономах
В) разгром печенегов	3) Ярослав Мудрый
Г) съезд князей в Любече	4) Святослав Игоревич
	5) Ольга

Ответы:

А	Б	В	Г
5	1	3	2

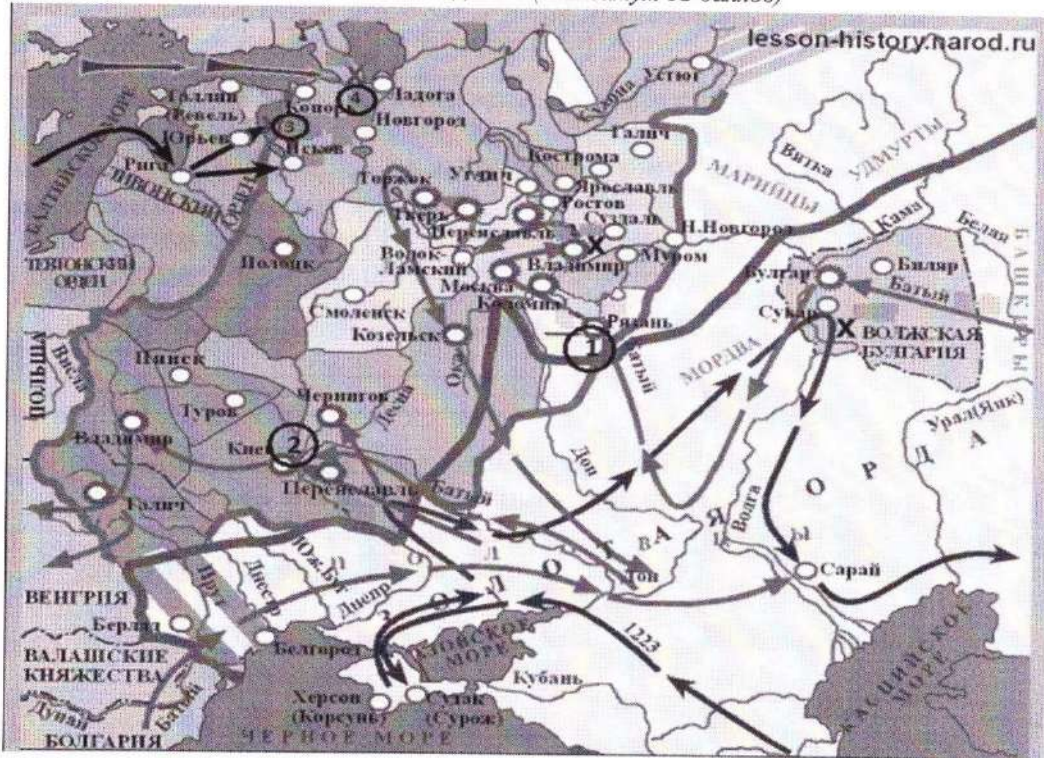
Задание 7. Прочитайте текст и выберите правильный вариант из предложенного списка. Заполните таблицу. (1 балл за каждый верный ответ. Максимум 6 баллов)

Московский престол перешёл к Ивану Даниловичу Калите в (1) (1380 году, 1325 году, 1340 году). В 1327 году вспыхнуло восстание в (2) (Новгороде, Твери, Рязани) против насилий, чинимых людьми Чолхана. Ненавистный баскак и почти все его воины были перебиты. Иван Калита немедленно воспользовался ситуацией. Вместе с другими русскими князьями он отправился к (3) (Чингисхану, Батью, Узбеку). На Русь они вернулись с ордынским отрядом, который вместе с дружинами князей обрушился на Тверь. Вскоре Иван Калита за это получил (4) (поместье, кормление, ярлык.). Летопись говорит о правлении Калиты: «...была оттоле тишина великая на (5) (50 лет, 40 лет, 90 лет), и перестали поганые воевать Русскую землю и убивать христиан». Иван Калита зимой 1339-1340 гг. укрепил Московский Кремль (6) (дубовыми стенами, красным кирпичом, белым камнем).

Ответы:

1	2	3	4	5	6
1325	Тверь	к Узбегу	Ярык	40 лет	из гуды

Задание 8. Внимательно рассмотрите карту «Российское государство во второй половине XV - начале XVI века» и выполните задания. (Максимум 12 баллов)



8.1. Напишите имя русского полководца XIII в., одержавшего победы над неприятелем в сражениях, отмеченных на карте цифрами «3» и «4». (2 балла)

Ответ: Александр Невский.

8.2. Напишите цифру, которой обозначен город, в XIII в. героически оборонявшийся от захватчиков во главе с воеводой боярином Дмитрием (Дмитрием). (2 балла)

Ответ: 1

8.3. Напишите название реки, на которой в 1223 г. произошла первая встреча русских войск с отрядами монголо-татар. (2 балла)

Ответ: На реке Калке.

8.4. Напишите, когда произошла битва, отмеченная на карте цифрой «4». (2 балла)

Ответ: _____

(№8.1-8.4 максимум 8 баллов)

8.5. Какие суждения, относящиеся к событиям, обозначенным на схеме стрелками, являются верными. Выберите четыре суждения из восьми предложенных. Запишите цифры, под которыми они указаны. (По 1 баллу за каждый верный ответ. Всего 4 балла)


1) Первым русским городом, принявшим на себя удар монголо-татар под командованием хана Батые в 1237 г., была Рязань.

- 2) После ухода монголо-татарского войска из разгромленной Рязани, захватчики подверглись нападению отряда под командованием рязанского боярина Евпатия Коловрата.
- 3) На территории Владимиро-Суздальского княжества монголо-татары потерпели своё первое поражения от войск князя Юрия Всеволодовича
- 4) Псков сумел отстоять свою независимость в период вторжения рыцарей Ливонского ордена на русские земли в первой половине XIII в.
- 5) Столицей образовавшейся Золотой Орды стал в 1243 г. город Сарай (Сарай-Бату)
- 6) Сражение, отмеченное на карте цифрой «4» произошло в один год с героической обороной и падением Киева.
- 7) В 1238 году состоялась битва на реке Сить.
- 8) Киев был захвачен монголо-татарами в 1238 году.

Ответы:

7	4	8	3	15
---	---	---	---	----

Задание 9. Перед вами изображения исторических событий, определите какое событие изображено и укажите его дату с точностью до года. (По 1 баллу за каждый верный ответ. Максимум – 8 баллов).



Ответы:

№	Событие	Дата
1	Крещение Руси	988
2		
3	Татаро-Монголы напади на Коломой	1258
4	Война алой и белой розой.	1455

Задание 10. По эпизодам жизни исторических персонажей определите, о ком речь.
По 2 балла за каждую правильно названную историческую личность. Всего 4 балла

10.1. Кто это? Жанна Дарк





- прославившая ее битва произошла под Орлеаном;
- ее объявили колдуньей и предали церковному суду, а четыре с половиной века спустя возвели в ранг католической святой;
- по официальной версии она публично сожжена в Руане 12 мая 1431 года.

10.2. Кто это? Святослав

- Князь - полководец
- «Иду на вы»
- Разгромил Хазарский каганат
- Необычная посмертная судьба

Задание 11. Заполните таблицу: укажите имя правителя, название архитектурных памятников, которые были заложены или построены во время их правления, город, в котором находится каждый представленный памятник архитектуры. *(По 1 баллу за каждый компонент. Максимум 16 баллов)*

Правители

1	2
	
3	4
	

Памятники архитектуры



Ответы:

№ портрета правителя	Имя правителя	№ памятника архитектуры	Название памятника архитектуры	В каком городе находится (название)
1	Андрей Боголюбский +	4 -		
2	Всеволод Б. Гнездо	1 +	Дмитриевский собор +	Владимир +
3	Ярослав Мудрый +	2 +	Софийский собор +	Новгород -
4	Иван III +	3 +	Спасский собор +	Москва +

Задание 12. Напишите термин. (По 2 балла за каждый правильный ответ. Максимум 4 балла)

12.1. Метрология – это наука, изучающая меры длины, веса, объема. Перед вами загадка из области метрологии.

Эта старинная единица измерения длины носит название той части тела, которую, судя по известной поговорке, невозможно укусить. Назовите эту меру длины, которой пользовались наши предки.

Ответ: локоть

12.2. Разгадайте шараду.

Первое - небольшой ресторан, где посетителей обслуживают за стойкой,


второе - русское национальное блюдо,

третье - предлог,

целое слово - одна из феодальных повинностей.

Ответ: Барщина.

Задание 13. Рассмотрите гербы городов Югры и ответьте на вопросы (2 балла за каждый правильный ответ, максимум 6 баллов)



13.1. Выпишите букву, обозначающую герб города, название которого в переводе означает «рыбное место».

Ответ: З

13.2. В каком году был основан этот город, как он называется?

Ответ: 1539 г.

13.3. Какие знаменитые люди жили (живут) в этом городе?

Ответ: Иван Рыжиков;

Максимальное количество баллов за все задания – 100

Всероссийская олимпиада по истории
2023–2024 учебный год
Школьный этап

7 класс

Шифр Ш44-Ц7-07

Уважаемый участник!

Время на выполнение работы – 90 минут.
Максимальное количество баллов – 100.

При выполнении работы внимательно читайте текст заданий.
Содержание ответа вписывайте в отведённые поля, записи ведите чётко и разборчиво.
Сумма набранных баллов за все решённые вопросы – итог вашей работы.
Задания считаются выполненными, если вы вовремя сдали их членам жюри.

Желаем успеха!

Таблица для внесения баллов заполняется членами жюри

1	2	3	4	5	6	7	8	9	10	11	12	13	Сумма баллов	Место
10	0	3	6	6	4	6	8	2	4	12	4	4	69	

Задание 1. Выберите правильный ответ. Ответ внесите в таблицу. (По 2 балла за правильный ответ. Максимум 10 баллов.)

1.1. Прочтите отрывок из источника и укажите название документа, с которым он связан.
«Если холоп (раб, зависимый человек) ударит свободного мужа и скроется в хороме своего господина, а тот не захочет его выдавать, то оставляет холопа у себя и платит оскорблённому 12 гривен; а затем, если где встретит ударенный оскорбителя (холопа), то вправе побить его».

- 1) Русская Правда; 2) Судебник 1497 г.;
 3) Салическая Правда; 4) Великая хартия вольностей.

1.2. Стремление укрепить государственную власть заставило князя Владимира:

- 1) учредить погосты и уроки; 2) принять христианство;
3) создать «Русскую Правду»; 4) убить киевских князей Аскольда и Дира.

1.3. Кому принадлежат слова?

«Англичане будут изгнаны из Франции, кроме тех, кто найдёт здесь гибель.... Бог пошлёт французам победу над англичанами!»

- 1) Жанне д'Арк; 2) Чёрному принцу; 4) Людовику XI; 3) Хлодвигу.

1.4. Прочитайте отрывок из произведения древнерусской литературы и укажите название этого произведения.

«В лето 862. Изгнали варягов за море, и не дали им дани, и начали сами собой владеть, и не было среди них правды, и встал род на род, и была у них усобица, и стали воевать друг с другом. И сказали себе:

- Поищем себе князя, который бы владел нами и судил по праву.

И пошли за море к варягам, к руси. Сказали руси чудь, словене, кривичи и весь:

- Земля наша велика и обильна, а наряда в ней нет. Приходите княжить и владеть нами!

И избрались трое братьев со своими родами, и пришли, сел старший Рюрик, в Новгороде, а другой, Синеус, - на Белоозере, а третий, Трувор, - в Изборске. И от тех варягов прозвалась Русская земля».

- 1) «Поучение детям»; 2) «Апостол»;
 3) «Русская правда»; 4) «Повесть временных лет».

1.5. Прочитайте фрагмент исторического источника и определите, о каком историческом событии идёт речь.

«О, долго Англия была безумна,
 Сама себя терзала в исступленье:
 Брат брата убивал в слепом бою,
 Отец убийцей был родного сына,
 Сын по приказу убивал отца.
 Повинны в этом Йорки и Ланкастеры:
 Раздор их дикий рвал на части мир».

- 1) Столетняя война; 2) Реконкиста;
 3) Война Алой и Белой розы; 4) Гуситское движение.

Ответы:

1	2	3	4	5

Задание 2. Выберите несколько правильных вариантов ответов на поставленные вопросы. Ответ внесите в таблицу. (3 балла за полностью верный ответ; 1 балл за ответ с одной ошибкой (не указан один из верных ответов или наряду с указанными всеми верными ответами приводится один неверный). Всего за задания 9 баллов)

2.1. Кто из указанных деятелей культуры и науки жил в эпоху раннего Возрождения?

- 1) Иоганн Гутенберг; 2) Франческо Петрарка; 3) Авиценна;
 4) Сандро Боттичелли; 5) Альберт Эйнштейн; 6) Алкуин.

2.2. Какие из категорий населения, перечисленных в «Русской Правде», относятся к зависимым людям?

- 1) дружинник; 2) рядович; 3) огнищанин; 4) холоп; 5) муж; 6) закуп

2.3. Выберите из предложенного перечня события, относящиеся к XIII в.

- 1) создание «Правды» Ярославичей; 2) Ледовое побоище;
 3) Куликовская битва; 4) Невская битва;
 5) битва на реке Сить; 6) съезд князей в Любече.

Ответы:

1	2	3
5	2	4

Задание 3. Что с исторической точки зрения объединяет перечисленные в ряду элементы? (По 3 балла за каждый верный ответ. Максимум за задание 9 баллов).

3.1. Дмитрий Иванович, Дмитрий Боброк, Владимир Андреевич Серпуховской

Ответ:

Кремлевская линия

3.2. Стрибог, Перун, Ярило.

Ответ:

Боги

3.3. 1478 г., 1485 г., 1510 г

Ответ:

Объединение Руси

Задание 4. Выберите лишний элемент из предложенного списка и поясните свой выбор.
(По 3 балла за каждый верный ответ. Всего за задание 6 баллов)

4.1. Дреговичи, поляне, древляне, половцы.

Ответ: Половцы все остальные это славяне жившие на территории Восточной Европы

4.2. Баскак, ярлык, вече, выход.

Ответ: Вече это древнее собрание на Руси

Задание 5. Расположите события в хронологической последовательности. Ответ внесите в таблицу. (6 баллов за полностью верную последовательность. 3 балла за последовательность с одной ошибкой. 0 баллов, если допущено более одной ошибки)

- А) начало правления Ивана III; Б) провозглашение Карла Великого императором;
В) языческая реформа князя Владимира; Г) захват Константинополя турками;
Д) первое упоминание о Москве в летописи; Е) принятие Судебника при Иване III.

Ответы:

1	2	3	4	5	6
Б	В	Д	Г	А	Е

Задание 6. Установите соответствие между событиями и древнерусскими князьями, в чье правление они произошли. В перечне справа есть лишняя характеристика
(1 балл за каждое верное соответствие. Максимум 4 балла.)

СОБЫТИЯ	ДРЕВНЕРУССКИЕ КНЯЗЬЯ
А) введение погостов и уроков	1) Олег
Б) объединение Новгорода и Киева под властью одного правителя	2) Владимир Мономах
В) разгром печенегов	3) Ярослав Мудрый
Г) съезд князей в Любече	4) Святослав Игоревич
	5) Ольга

Ответы:

А	Б	В	Г
5	1	3	2

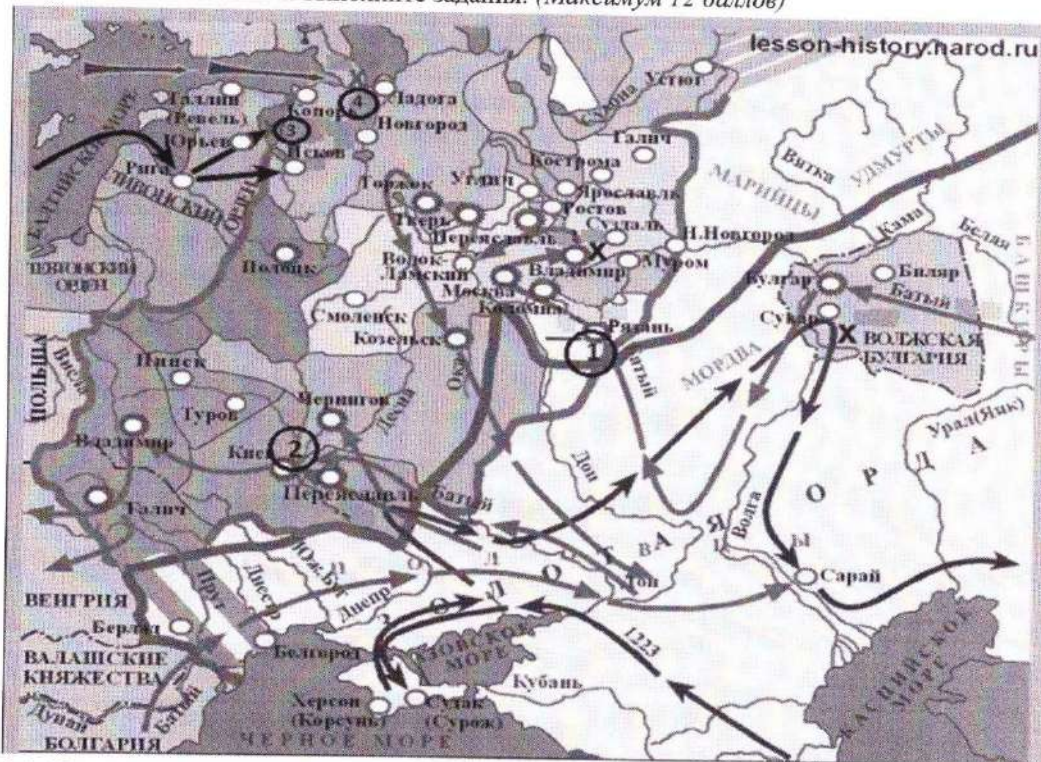
Задание 7. Прочитайте текст и выберите правильный вариант из предложенного списка. Заполните таблицу. (1 балл за каждый верный ответ. Максимум 6 баллов)

Московский престол перешёл к Ивану Даниловичу Калите в (1) (1380 году, 1325 году, 1340 году). В 1327 году вспыхнуло восстание в (2) (Новгороде, Твери, Рязани) против насилий, чинимых людьми Чолхана. Ненавистный баскак и почти все его воины были перебиты. Иван Калита немедленно воспользовался ситуацией. Вместе с другими русскими князьями он отправился к (3) (Чингисхану, Батью, Узбеку). На Русь они вернулись с ордынским отрядом, который вместе с дружинами князей обрушился на Тверь. Вскоре Иван Калита за это получил (4) (поместье, кормление, ярлык.). Летопись говорит о правлении Калиты: «...была оттоле тишина великая на (5) (50 лет, 40 лет, 90 лет), и перестали поганые воевать Русскую землю и убивать христиан». Иван Калита зимой 1339-1340 гг. укрепил Московский Кремль (6) (дубовыми стенами, красным кирпичом, белым камнем).

Ответы:

1	2	3	4	5	6
1325	Тверь	Узбек	Ярлик	40 лет	Дуд

Задание 8. Внимательно рассмотрите карту «Российское государство во второй половине XV - начале XVI века» и выполните задания. (Максимум 12 баллов)



8.1. Напишите имя русского полководца XIII в., одержавшего победы над неприятелем в сражениях, отмеченных на карте цифрами «3» и «4». (2 балла)

Ответ: Александр Невский

8.2. Напишите цифру, которой обозначен город, в XIII в. героически оборонявшийся от захватчиков во главе с воеводой боярином Дмитрием (Дмитрием). (2 балла)

Ответ: 2

8.3. Напишите название реки, на которой в 1223 г. произошла первая встреча русских войск с отрядами монголо-татар. (2 балла)

Ответ: На реке Калке

8.4. Напишите, когда произошла битва, отмеченная на карте цифрой «4». (2 балла)

Ответ: _____

(№8.1-8.4 максимум 8 баллов)

8.5. Какие суждения, относящиеся к событиям, обозначенным на схеме стрелками, являются верными. Выберите четыре суждения из восьми предложенных. Запишите цифры, под которыми они указаны. (По 1 баллу за каждый верный ответ. Всего 4 балла)





1) Первым русским городом, принявшим на себя удар монголо-татар под командованием хана Батые в 1237 г., была Рязань.

- 2) После ухода монголо-татарского войска из разгромленной Рязани, захватчики подверглись нападению отряда под командованием рязанского боярина Евпатия Коловрата.
- 3) На территории Владимиро-Суздальского княжества монголо-татары потерпели своё первое поражения от войск князя Юрия Всеволодовича
- 4) Псков сумел отстоять свою независимость в период вторжения рыцарей Ливонского ордена на русские земли в первой половине XIII в.
- 5) Столицей образовавшейся Золотой Орды стал в 1243 г. город Сарай (Сарай-Бату)
- 6) Сражение, отмеченное на карте цифрой «4» произошло в один год с героической обороной и падением Киева.
- 7) В 1238 году состоялась битва на реке Сить.
- 8) Киев был захвачен монголо-татарами в 1238 году.

Ответы:

4 +	5	1 +	3
-----	---	-----	---


Задание 9. Перед вами изображения исторических событий, определите какое событие изображено и укажите его дату с точностью до года. (По 1 баллу за каждый верный ответ. Максимум – 8 баллов).

1	2
	
3	4
	

Ответы:

№	Событие	Дата
1	Крещение Руси	988
2		
3	Падение Мамыи и Батый	1238
4	Война Алай и Белой розы	1455

Памятники архитектуры



Ответы:

№ портрета правителя	Имя правителя	№ памятника архитектуры	Название памятника архитектуры	В каком городе находится (название)
1	Андрей Боголюбский	4		
2	Всеволод	1	Дмитриевский собор	Владимир
3	Ярослав Мудрый	2	Софийский собор	Новгород
4	Иван III	3	Успенский собор	Москва

Задание 12. Напишите термин. (По 2 балла за каждый правильный ответ. Максимум 4 балла)

12.1. Метрология – это наука, изучающая меры длины, веса, объема. Перед вами загадка из области метрологии.

Эта старинная единица измерения длины носит название той части тела, которую, судя по известной поговорке, невозможно укусить. Назовите эту меру длины, которой пользовались наши предки.


Ответ: локоть

12.2. Разгадайте шараду.

Первое - небольшой ресторан, где посетителей обслуживают за стойкой,
второе - русское национальное блюдо,
третье - предлог,
целое слово - одна из феодальных повинностей.

Ответ: Барщина

Задание 13. Рассмотрите гербы городов Югры и ответьте на вопросы (2 балла за каждый правильный ответ, максимум 6 баллов)



13.1. Выпишите букву, обозначающую герб города, название которого в переводе означает «рыбное место».

Ответ: Б

13.2. В каком году был основан этот город, как он называется?

Ответ: 1594

13.3. Какие знаменитые люди жили (живут) в этом городе?

Ответ: Алексей Ломоносов

Максимальное количество баллов за все задания – 100