

Всероссийская олимпиада по географии
2022/23 учебный год
Школьный этап

Задания для участников 5-6 класса

Инструкция по выполнению работы

Время, отведенное на выполнение заданий обоих туров – 90 минут

Максимальное количество баллов за оба тура – 50.

Внимательно прочитайте каждое задание.

Ответ записывайте разборчиво.

Примечание. Не разрешается пользоваться школьными атласами и другими источниками информации.

Шифр Шчч-Тб-03

305

ЗАДАНИЯ ТЕОРЕТИЧЕСКОГО ТУРА

Общее количество баллов – 35 баллов

Задание	1	2	3	4	5	6	Итого
Максимальное кол-во баллов	2	3	3	3	22	2	35
Оценка участника	2	2	2	2	10	1	18

Задание 1.

Существуют ли на Земле точки, для определения, местонахождения которых достаточно определить только широту? Если да, то назовите их.

2 Ответ: Северная и Южная широты

Критерии оценивания: за правильный ответ – 2 балла.

Задание 2.

Исправьте географические ошибки

- 2
1. Город Мадагаскар остров Мадагаскар
 2. Ладожское море Ладожское озеро
 3. Озеро Амазонка река Амазонка
 4. Аравийский залив Аравийский пролив
 5. Остров Гималаи горы Гималаи
 6. Красное озеро Красное море

Критерии оценивания: за каждый верный ответ – 0,5 балла. Всего – 3 балла.

Задание 3.

К какому понятию принадлежат следующие ассоциации:

- 2
- Волна, землетрясение, опасность, скорость, бедствие природные катастрофы —
- Скалы, пороги, зрелище, грохот, вода водопад +
- Океан, лёд, гора, опасность айсберг +

Критерии оценивания: за каждый верный ответ – 1 балл. Всего – 3 балла.

Задание 4.

Один невнимательный ученик на плане местности обозначил зеленым цветом следующие объекты:

а) лес; б) луг; в) пристань на реке; г) заросли кустарника; д) водяную мельницу.

2 Какие объекты надо обозначить другим цветом? Каким? Да. Пристань на реке, заросли кустарника надо обозначить черным цветом в виде чирка и водяную мельницу

Критерии оценивания: за каждый верный ответ – 1 балл. Всего – 3 балла.

Задание 4. Прочитайте текст о географических рекордах материков нашей планеты и замените пропуски, обозначенные числами, на слова (словосочетания) или числа. Словами (словосочетаниями) в ответах могут быть географические названия, термины и понятия. Числовые ответы запишите цифрами, округлив до целого числа.

На нашей планете шесть материков, и каждый из них обладает своими географическими особенностями и рекордами.

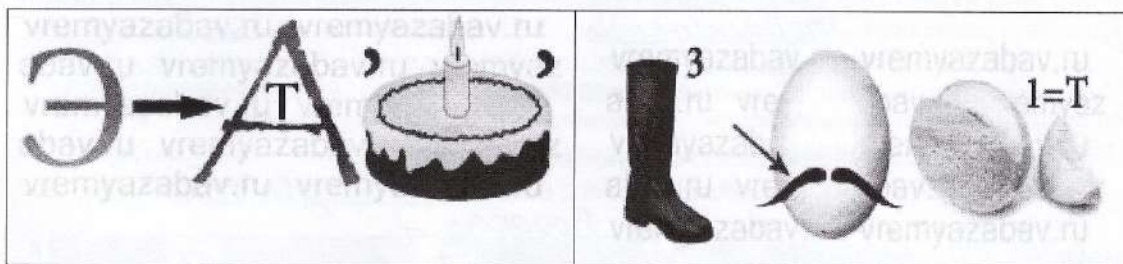
На самом большом по площади континенте Земли в горах (1) находится наивысшая точка планеты с высотой (2) метров над уровнем моря и самая низкая отметка суши – уровень (3) моря, которое на самом деле является озером. На этом же континенте располагаются самое большое по площади озеро мира – (4) море и самое глубокое в мире озеро – (5). Эти озёра находятся в самой большой по площади стране мира – (6). Самая длинная в мире река – (7), протекает по территории четвёртого по площади континента планеты. Долгое время самой длинной рекой считался (8), протекающий по территории самого жаркого материка Земли. Но самая высокая температура воздуха на планете зарегистрирована в (9), которая расположена на третьем по площади материке планеты. Самая низкая температура воздуха отмечена на материке (10). От ближайшего к нему континента он отделён самым широким проливом в мире под названием пролив (11).

10

№	Ответы	№	Ответы
1	Гималаи +	7	Амазонка +
2	8848 м (8000 м) -	8	Файне Сьерра -
3	0 м -	9	Файне Сьерра +
4	Ладожское +	10	Европа -
5	Байкал +	11	Фраунгофер +
6	Россия +		

Критерии оценивания: за каждый верный ответ - 2 балла. Всего - 22 балла.

Задание 6. Максимальная оценка 2 балла (за каждый верный ответ 1 балл). Отгадайте географические ребусы?



Ответ: Экватор, задняя
 Критерии оценивания: за каждый верный ответ - 1 балл. Всего - 2 балла.

ЗАДАНИЯ ТЕСТОВОГО ТУРА
 Общее количество баллов – 15 баллов

Задание	1	2	3	4	5	6	7	8	Итого
Максимальное кол-во баллов	0,5	0,5	0,5	0,5	0,5	0,5	0,5	0,5	
Оценка участника	+	+	0	+	+	+	0	+	
Задание	9	10	11	12	13	14	15	16	Итого
Максимальное кол-во баллов	0,5	0,5	0,5	0,5	1	1	2	5	15
Оценка участника	+	+	+	+	1	1	2	3	12

1. Что изучают естественные науки?

- 1) образ жизни людей 2) историю цивилизаций
3) экономику страны 4) природу окружающего мира

Критерии оценивания: за правильный ответ - 0,5 балла.

2. Воображаемая прямая, проходящая через центр Земли, вокруг которой происходит суточное вращение Земли:

- 1) полярный круг; 2) земная ось; 3) экватор; 4) северный полюс.

Критерии оценивания: за правильный ответ - 0,5 балла.

3. Днём и ночью, в любую погоду верным путеводителем является компас. Где появился первый компас?

- 1) в Японии; 2) в Индии; 3) в Испании; 4) в Китае.

Критерии оценивания: за правильный ответ - 0,5 балла.

4. Назовите сторону горизонта, противоположную северо-востоку:

- 1) юго-восток; 2) юго-запад; 3) северо-запад; 4) север

Критерии оценивания: за правильный ответ - 0,5 балла.

5. Какая природная зона описана в тексте?

«Лето тёплое, но зима суровая, преобладают хвойные растения, так как они менее требовательны к теплу. Животный мир разнообразен».

- 1) тундра 2) тайга 3) пустыня 4) арктическая пустыня

Критерии оценивания: за правильный ответ - 0,5 балла.

6. Какое озеро России включено в список объектов Всемирного природного наследия?

- 1) Ладожское 2) Байкал 3) Каспийское 4) Онежское

Критерии оценивания: за правильный ответ - 0,5 балла.

7. Ближайшими к Земле планетами Солнечной системы являются:

- 1) Сатурн и Юпитер; 2) Марс и Венера;
3) Юпитер и Марс; 4) Венера и Меркурий

Критерии оценивания: за правильный ответ - 0,5 балла.

8. Чем является Солнце в Солнечной системе?

- 1) звездой 2) планетой 3) крупным астероидом 4) кометой

Критерии оценивания: за правильный ответ - 0,5 балла.

9. Какое утверждение неверно?

- 1) Лес — защитник почвы 2) Лесов так много, что вырубить их все невозможно
3) Лес очищает воздух 4) Лес защищает почву от разрушения.

Критерии оценивания: за правильный ответ - 0,5 балла.

10. Что является основным занятием людей в тундре?

- 1) растениеводство; 2) рыболовство; 3) оленеводство

Критерии оценивания: за правильный ответ - 0,5 балла.

11. На каком материке находится наша страна:

- 1) Европа 2) Азия 3) Северная Америка 4) Евразия

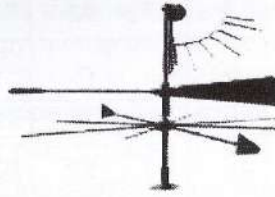

Критерии оценивания: за правильный ответ - 0,5 балла.

12. Первым кругосветное путешествие совершила экспедиция:

- 1) Х. Колумба; 2) Ф. Магеллана; 3) Васко да Гамы; 4) Афанасий Никитин

Критерии оценивания: за правильный ответ - 0,5 балла.

13. Этот простой метеорологический прибор называется (1), с его помощь можно измерить (2).




- А) 1 – флюгер, 2 – угол;
 Б) 1 – стрелка, 2 – направление;
 В) 1 – флюгер, 2 – направление, скорость;
 Г) 1 – анемометр, 2 – силу.

Критерии оценивания: за правильный ответ – 1 балл.

14. В какой природной зоне могли быть сделаны представленные фотографии.

Запишите название природной зоны.



Ответ: Тундра

Критерии оценивания: за правильный ответ – 1 балл.

15. Установите соответствие между названиями природных зон и географическими особенностями, которые характерны для каждой из них.

ГЕОГРАФИЧЕСКИЕ ОСОБЕННОСТИ

ПРИРОДНЫЕ ЗОНЫ

- А) расположена в умеренном поясе Северного полушария; 1) тундра
 Б) растительность скудная; 2) тайга
 В) занимает обширные районы крайнего севера России;
 Г) растут сосны, ели, пихта;
 Д) большое количество мхов и лишайников;
 Е) местообитание лисы, зайца, куропатки, белки и др.



Запишите в таблицу выбранные цифры под соответствующими буквами.

А	Б	В	Г	Д	Е
2)	1)	1)	2)	2)	2)

Критерии оценивания: за правильный ответ – 2 балла.

16. В различных уголках мира обитают нелетающие птицы. Установите соответствия: «изображение нелетающей птицы – её название – ареал обитания».

- 1) африканский страус 2) нанду 3) киви 4) казуары 5) императорский пингвин



- 1) Антарктида 2) Африка 3) Новая Зеландия 4) Австралия 5) Южная Америка

Ответ: А-5) IV, Б-4) IV, В-3) III, Г-2) IV, Д-2) IV.

Критерии оценивания: за правильный ответ – 5 баллов.

Жюри:
 Олф Сорочина С. В.
 Тамб Тамми Т. П.

Иль Шмать Н. В.

Задания для участников 7 класса

Инструкция по выполнению работы

Время, отведенное на выполнение заданий обоих туров – 90 минут

Максимальное количество баллов за оба тура – 50.

Внимательно прочитайте каждое задание.

Ответ записывайте разборчиво.

Примечание. Не разрешается пользоваться школьными атласами и другими источниками информации.

Шифр Ш 44-Г 7-02. 175

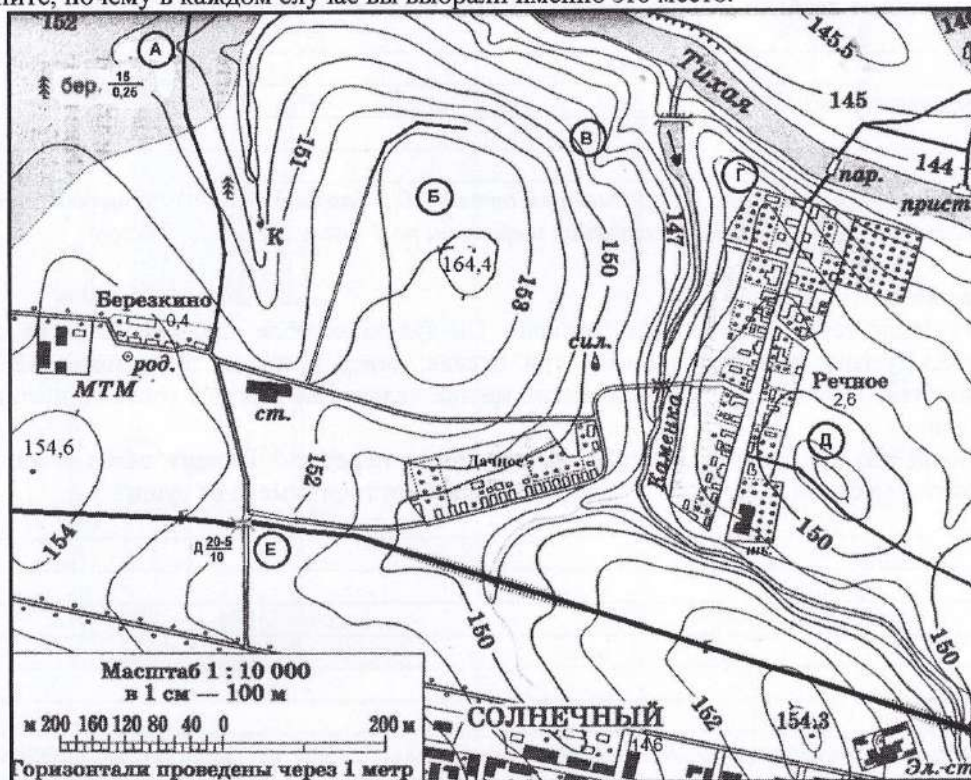
ЗАДАНИЯ ТЕОРЕТИЧЕСКОГО ТУРА

Общее количество баллов – 30 баллов

Задание	1	2	3	4	Итого
Максимальное кол-во баллов	11	5	6	8	30
Оценка участника	0	0	6	0	6

Задание 1. На предложенном фрагменте топографической карты допущены 9 ошибок. Найдите их.

Буквами в кружках отмечены места, где можно разместить перечисленные объекты. Объясните, почему в каждом случае вы выбрали именно это место.



- 1) ветряную мельницу; 2) вертолетную площадку площадью 1 гектар при разнице высот не более 1 м; 3) домик лесника; 4) колодец; 5) железнодорожную станцию.

- Какой процесс происходит в точке В?
- Каково расстояние от окраины деревни Дачное до школы в поселке Речное и как быстро его преодолевают школьники, если они идут пешком по дороге со средней скоростью 4 км/ч?

Ответ записать с точностью до 50 метров и 3 минут.

Ответ:

Ошибки:

1. _____
2. _____
3. _____
4. _____
5. _____
6. _____
7. _____
8. _____
9. _____

Расположение объектов:

- 1). _____
- 2). _____
- 3). _____
- 4). _____
- 5). _____

Процесс в точке В _____

Расстояние от деревни Дачное до школы в поселке Речное равно:

Время движения (минут) _____

Критерии оценивания: за правильный ответ - 0,5 балла. Указание процессов, расстояния в масштабе карты, расчёт расстояния и времени по 1 баллу. Всего 11 баллов.

Задание 2.

На Земле есть замечательный материк. Следуя на корабле вдоль его берегов с запада на восток, путешественник пересечет три океана; север и юг на этом материке мгновенно «меняются» местами. И, наконец, в этих местах человек не всегда в состоянии отличить море от суши.

Какой это материк? Какие три океана можно пересечь? Почему север и юг мгновенно меняются местами? Почему в этих местах сложно отличить море от суши?

Критерии оценивания: за правильный ответ материка, объяснения – по 1 баллу (3 балла); за каждый правильный ответ на вопросы – 0,5 балла. Всего 5 баллов.

Задание 3.

В 2016 году Лена смогла отметить свой день рождения именно в тот день, когда она родилась. Но сделала она это всего лишь 3-й раз за всю жизнь, хотя учится девочка в 5-м классе.

6 Как называется год, в который родилась Лена? Сколько он длится?

Высокоотный год. 4 г.

Сколько лет девочке? 12 лет.

Какого числа родилась Лена? 29 февраля.

Критерии оценивания: за правильный ответ по 1 баллу, поощрительные баллы за полноту расчета в ответах на 3 и 4 вопрос – по 1 баллу. Всего 6 баллов.

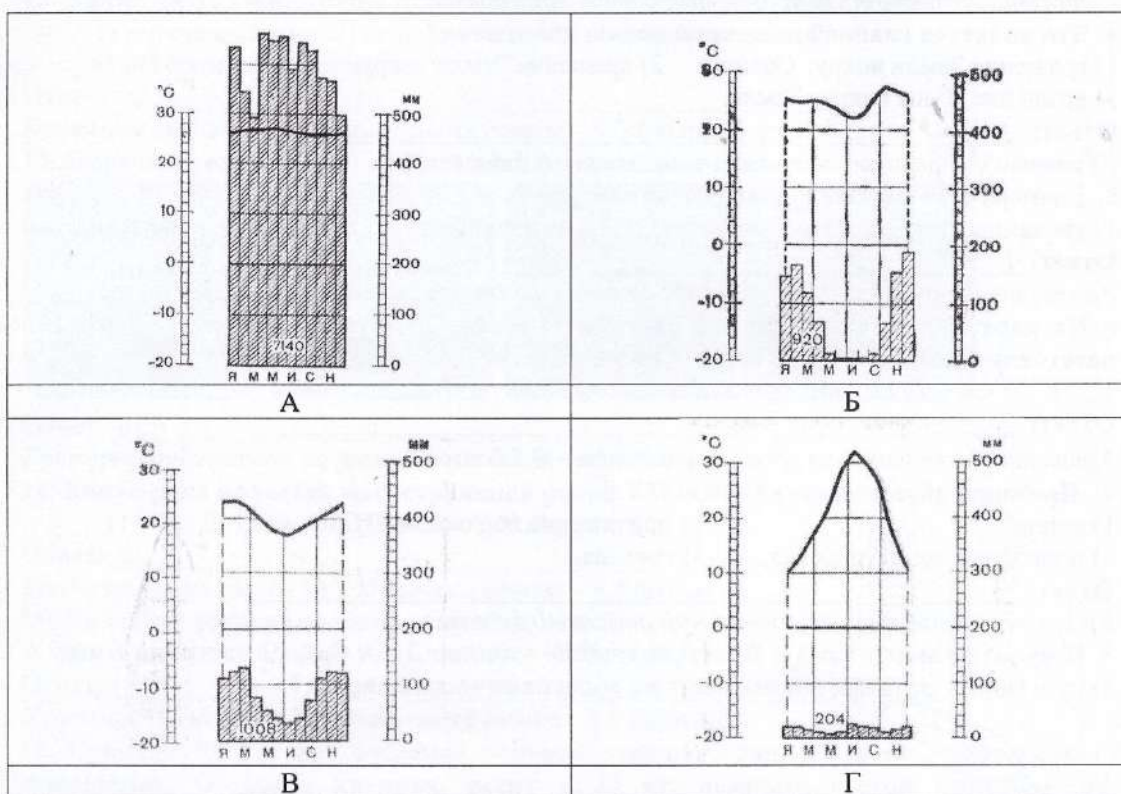
Задание 4.

Установите соответствие между изображенными на рисунке с климатограммами и метеостанциями из таблицы, для которых известны географические координаты. Определите для каждой метеостанции тип и подтип климата.

Учтите, что одна строчка останется незаполненной.

Климато-грамма	Метео-станция	Широта	Долгота	Абсолютная высота, м	Тип и подтип климата
		33° с.ш.	112°з.д.	338	
		38°с.ш.	13°в.д.	72	
		5°с.ш.	77°з.д.	76	
		11° ю.ш.	45°з.д.	436	
		30°ю.ш.	31°в.д.	5	

Метеостанции: Финикс (США), Ибипетуба (Бразилия), Дурбан (ЮАР), Андагоя (Колумбия)



Критерии оценивания: за правильный ответ соответствия графиков метеостанций и климатограмм - 0,5 баллов, определение типа и подтипа климата – 1 балл. Всего 8 баллов.

ЗАДАНИЯ ТЕСТОВОГО ТУРА

Общее количество баллов – 20 баллов

Задание	1	2	3	4	5	6	7	8	9	10	Итого
Максимальное кол-во баллов	0,5	0,5	0,5	0,5	0,5	0,5	0,5	0,5	2	0,5	
Оценка участника	0	0	0	+	+	+	+	0	2	+	
Задание	11	12	13	14	15	16	17	18	19	20	Итого
Максимальное кол-во баллов	0,5	1	0,5	0,5	0,5	0,5	1	1	2	6	20
Оценка участника	+	1	+	+	+	0	0	0	0	2	11,5

1. Первое кругосветное плавание совершил:

- 1) Христофор Колумб; 2) Фернан Магеллан; 3) Джеймс Кук; 4) Васко да Гама.

Ответ: 1

Критерии оценивания: за правильный ответ – 0,5 баллов.

2. Укажите, кто первым употребил термин «география»:

- 1) Пифагор; 2) Аристотель; 3) Аристарх Самосский;
4) Анаксимандр; 5) Страбон; 6) Эратосфен;
7) Птолемей.

Ответ: 1

Критерии оценивания: за правильный ответ – 0,5 баллов.

3. Земная ось наклонена к плоскости орбиты под углом:

- 1) 23,5°; 2) 66,5°; 3) 50°.

Ответ: 3

Критерии оценивания: за правильный ответ – 0,5 баллов.

4. Что является главной причиной смены дня и ночи?

- 1) вращение Земли вокруг Солнца; 2) вращение Земли вокруг своей оси;
3) вращение Луны вокруг Земли.

Ответ: 2

Критерии оценивания: за правильный ответ – 0,5 баллов.

5. Температура горных пород с глубиной:

- 1) увеличивается; 2) уменьшается; 3) не изменяется; 4) зависит от времени года.

Ответ: 1

Критерии оценивания: за правильный ответ – 0,5 баллов.

6. На карте масштаба 1:250 000 расстояние между пунктами составляет 9 см. Каково расстояние между этими пунктами на местности?

- 1) 36 км; 2) 27,8 км; 3) 22,5 км; 4) 25 км.

Ответ: 3

Критерии оценивания: за правильный ответ – 0,5 баллов.

7. Причины образования цунами:

- 1) ветер; 2) притяжение вод океана Луной;
3) подводные землетрясения; 4) течения.

Ответ: 3

Критерии оценивания: за правильный ответ – 0,5 баллов.

8. В мультфильме «Зима в Простоквашино» машина Дяди Федора застряла в яме. А как такую форму рельефа показывают на топографических картах?

1)

2)

Ответ: 1

Критерии оценивания: за правильный ответ – 0,5 баллов.

9. Приведите соответствие элемент погоды – измерительный прибор, впишите ответы в поля:

- | | |
|-------------------------|--------------|
| 1. атмосферное давление | а) флюгер |
| 2. влажность воздуха | б) осадкомер |
| 3. количество осадков | в) гигрометр |
| 4. направление ветра | г) барометр |

Ответ:

1 2 3 4

Критерии оценивания: за правильный ответ – 0,5 баллов. Всего 2 балла

10. Выберите правильное утверждение, в котором указаны материки по мере увеличения их площади:

- 1) Австралия, Антарктида, Северная Америка, Южная Америка, Африка, Евразия;
- 2) Евразия, Африка, Северная Америка, Южная Америка, Антарктида, Австралия;
- 3) Австралия, Антарктида, Южная Америка, Африка, Северная Америка, Евразия;
- 4) Австралия, Антарктида, Южная Америка, Северная Америка, Африка, Евразия.

Ответ: 4

Критерии оценивания: за правильный ответ – 0,5 баллов.

11. Город является одним из старейших сибирских городов. Был основан 4 людьми: воеводой, священником, купцом и охотником. Сегодня на центральной улице города стоит замечательный памятник основателям города:

- 1) Ханты – Мансийск; 2) Нижневартовск; 3) Сургут; 4) Нефтеюганск.

Ответ: 3

Критерии оценивания: за правильный ответ – 0,5 баллов.

12. Какие части гидросферы нельзя видеть на физической карте мира:

- 1) мировой океан; 2) воды атмосферы; 3) подземные воды;
- 4) поверхностные воды.

Ответ: 2,3

Критерии оценивания: за правильный ответ – 0,5 баллов. Всего 1 балл.

13. Определите, под какой цифрой находится лишнее название.



Ответ: 1

Критерии оценивания: за правильный ответ – 0,5 баллов.

14. Какая река является магистральной рекой ХМАО – Югры:

- 1) Обь; 2) Ваха; 3) Иртыш; 4) Тобол.

Ответ: 1

Критерии оценивания: за правильный ответ – 0,5 баллов.

15. На каком острове находится вулкан Этна?

- 1) Исландия; 2) Ява; 3) Сицилия; 4) Кунашир.

Ответ: 3

Критерии оценивания: за правильный ответ – 0,5 баллов.

16. Существует или нет снежный человек - вопрос спорный, а вот снежная обезьяна существует. Обезьяна крупная, весит 11-18 кг, покрыта густой шерстью. Это не удивительно, так как средняя температура января в ареале ее обитания составляет от -3° до -11°C . Здесь много горячих источников, где обезьяны любят купаться, они неплохо плавают и даже ныряют. На курортах в открытых источниках их нередко

можно видеть купающимися вместе с людьми. Назовите остров, на котором насчитывается около 30 тыс. снежных обезьян.

- 1) Исландия; 2) Хонсю; 3) Северный (Новая Зеландия); 4) Мадагаскар; 5) Хоккайдо.

Ответ: 3

Критерии оценивания: за правильный ответ – 0, 5 баллов.

17. На какой широте расположен город, если расстояние от него до Северного полюса 40 градусов?

- 1) 40 градусов северной широты;
2) 60 градусов северной широты;
3) 50 градусов северной широты;
4) 40 градусов южной широты.

Ответ: 4

Критерии оценивания: за правильный ответ – 1 балл.

18. О какой природной зоне идет речь?

Белый мох на скале, а в расщелине – лёд,
Старый снег залежался, не тает.
Дикий камень везде черной маской встает,
Да поток по ущелью стекает.
А по скалам кругом все-то птицы во мгле,
Взглянешь сверху на них, будто марь на скале,
Словно туча лежит над волнами.

Ответ: Тундра.

Критерии оценивания: за правильный ответ – 1 балл.

19. Прочитайте описание. Назовите остров, для которого характерны следующие черты:

Разнообразные экосистемы острова и уникальный животный мир находятся под угрозой вымирания из-за быстро растущего населения. Более 90% видов не встречаются больше нигде на Земле. Благодаря уникальным условиям на острове жили и развивались виды, вымершие во всех остальных частях света. Это привело к появлению весьма необычных видов. От материка остров отделяется проливом шириной 422-925 км.



Фосса



Малый тенрек

Фосса приобрела внешний вид, напоминающий кошку (хотя и состоит в близком родстве с мангустами). Малый тенрек внешне чрезвычайно похож на ежа.

Ответ: Остров _____ Пролитв _____

Критерии оценивания: за правильный ответ - 1 балл. Всего 2 балла.

20. Прочитайте описание. О какой необычной вершине идет речь?





Эту вершину называют по-разному. Правительство страны, лежащей к югу от горы, в 1965 г. объявило, что имеется такое название «Сагарматха», что означает «небесная вершина». На языке народа, проживающего к северу от этой вершины, ее название переводится как «мать страны гор». В 1856 г. вершине дали европейское название в честь начальника топографической службы.

Ответ:

Горная вершина (местное название) Сагарматха

Горная вершина (европейское название) _____

Заполните таблицу, соотнесите номер фотографии и название вершины.
 Горные вершины: Эльбрус, Килиманджаро, Гекла, Фудзияма, Сагарматха.
 Учтите, что в списке указана одна лишняя вершина.

А	Эльбрус	
Б	Сагарматха	
3	Гекла	
4	Фудзияма	

Критерии оценивания: за правильный ответ - 1 балл. Всего 6 баллов.

Жюри:
 Пред Сорокина С.В.
 Тамб Тамбу Т.Д.
 Уша Ушаев Н.В.

Всероссийская олимпиада по географии
2022/23 учебный год
Школьный этап

Задания для участников 8 класса

Инструкция по выполнению работы

Время, отведенное на выполнение заданий обоих туров – 90 минут

Максимальное количество баллов за оба тура – 50

Внимательно прочитайте каждое задание. Ответ записывайте разборчиво.

Примечание. Не разрешается пользоваться школьными атласами и другими источниками информации.

Шифр Ш 44-Г8-16

ЗАДАНИЯ ТЕОРЕТИЧЕСКОГО ТУРА

Задание	1	2	3	4	Итого
Максимальное кол-во баллов	5	4	12	12	33
Оценка участника	2	4	12	11	29

Задание 1. Объясните, почему, несмотря на то, что летом в зоне арктических пустынь солнце светит круглосуточно, здесь очень скудная растительность?

20
Ответ: почва круглый год покрыта льдами и растения не могут прорасти, солнце не прогревает почву. Температура не выше +5°
Критерий оценивания: всего 5 баллов.

Задание 2. В нашей стране в акватории Северного Ледовитого океана круглогодично действует лишь один порт. Назовите порт, море и физико-географическую особенность, предопределившую круглогодичную навигацию в этих водах.

40
Ответ: порт - Мурманск, Берингово море, все круглогодичная навигация, т.к в этом море протекают теплые течения.

Критерии оценивания: за каждый верный ответ - 1 балл. всего - 4 балла.

Задание 3. Какой субъект РФ расположен в трёх полушариях, омывается тремя морями, имеет сухопутную границу с тремя субъектами РФ.



Укажите название этого субъекта, названия полушарий, морей и трех соседних субъектов.



120
Ответ: Чукотский автономный округ, Северное, Южное, Восточное полушарии, Восточно-Сибирское, Ойукотское, Берингово море, Республика Саха-Якутия, Магаданская область, Камчатский край.

Критерии оценивания: за каждый верный ответ - 3 балла. всего - 12 баллов.

Задание 4. «Традиционные жилища коренных народов России»

Определите, как называются представленные традиционные жилища народов России. В каких районах страны они распространены. Результаты своего исследования поместите в таблицу.

Описание и иллюстрация жилища	Название жилища	Народ	Районы размещения
<p>1. Это жилище прекрасно приспособлено к кочевым условиям и используется народами, которые занимаются оленеводством. Оно представляет собой конусообразную палатку, которая состоит из высоких шестов, накрываемых шкурами. Конусообразная форма позволяет снегу скользить по его поверхности и не накапливаться на строении, а, кроме того, делает его более устойчивым к ветру. В центре жилища располагается очаг, который служит для обогрева и приготовления пищи.</p> 	<p>Тум. 18</p>	<p>Таскис-маны 18</p>	<p>на кр. Севере 18</p>
<p>2. Во все времена была жилищем кочевников. Представляет собой жилище круглой формы, покрытое шкурами или войлоком. Основу ее составляют деревянные жерди, поставленные в форме решеток. В верхней части купола располагается специально отверстие для выхода дыма от очага. Вещи внутри располагаются по краям, а в центре находится очаг, камни для которого всегда берут с собой. Пол обычно устилают шкурами или досками. Это жилище очень мобильное. Его можно собрать за 2 часа и также быстро разобрать. Круглая форма этого строения придает ему устойчивости, которая необходима при сильных степных ветрах.</p> 	<p>Юрта. 18</p>	<p>Бурятия, монголия 18</p>	<p>на востоке 00°</p>
<p>3. Это жилище возводилось из бревен, при этом, основным инструментом был топор. С его помощью на конце каждого бревна делали небольшое углубление, в которое закрепляли следующее бревно. Таким образом, постепенно возводились стены. Крышу обычно делали двускатной, что позволяло экономить материал. Для того, чтобы было тепло, между бревнами клали лесной мох. Он при оседании становился плотным и закрывал все</p>			

Описание и иллюстрация жилища	Название жилища	Народ	Районы размещения
<p>щели. Фундамент в те времена не делали и первые бревна ставили на уплотнённую землю. Крышу сверху покрывали соломой, так как она служила хорошим средством защиты от снега и дождя. Основную же роль в сохранении тепла в жилище играла печь, дым от которой выходил через окно, а с начала 17 века — через дымоход.</p> 	<p>изба. 18</p>	<p>русский 18</p>	<p>в южной и западной России европейск. часть. 18</p>
<p>4. Представляет собой куполообразную постройку диаметром 3 — 4 метра и высотой около 2 метров из уплотнённых ветром снежных или ледяных блоков. Важно, чтобы вход в иглу был ниже уровня пола — это обеспечивает отток из постройки тяжёлого углекислого газа и приток взамен более лёгкого кислорода, а также не позволяет уходить более лёгкому тёплому воздуху. Свет в иглу проникает прямо через снежные стены, хотя иногда устраиваются окна из тюленьих кишок или льда. Внутреннее помещение обычно застилается шкурами, иногда шкурами покрываются и стены. Для обогрева жилища и дополнительного его освещения используются плоски-жирники. В результате нагревания внутренние поверхности стен оплавляются, но стены не тают, выводит избыточное тепло наружу.</p> 	<p>Иша. 18</p>	<p>Эскимосы. 18</p>	<p>на севере на Дальнем севере 18</p>

Критерии оценивания: за каждый верный ответ - 1 балл, всего - 12 баллов.

ЗАДАНИЯ ТЕСТОВОГО ТУРА

Задание	1	2	3	4	5	6	7	8	9	Итого
Максимальное кол-во баллов	1	1	1	1	1	1	1	1	1	
Оценка участника	1	1	1	1	1	0	1	1	0	
Задание	10	11	12	13	14	15	16	17		Итого
Максимальное кол-во баллов	1	1	1	1	1	1	1	1		17
Оценка участника	1	1	1	1	0	1	0	1		13

1. Выберите вариант, где верно перечислены страны, граничащие с Россией:

- а) Латвия, Польша, Чехия, Турция: ✓
 б) Латвия, Эстония, Белоруссия, Армения: ✗
 в) Финляндия, Швеция, Норвегия, Эстония:
 г) Белоруссия, Грузия, Азербайджан, Казахстан.

18 Ответ: г)

Критерии оценивания: за верный ответ - 1 балл.

2. Морская граница между Россией и Японией проходит по проливу:

- а) Лаперуза; в) Татарскому;
 б) Дрейка; г) Беринговому.

18 Ответ: а)

Критерии оценивания: за верный ответ - 1 балл.

3. В России Новый год раньше других россиян встречают жители:

- а) Калининграда; б) Петропавловского - Камчатского;
 в) Санкт-Петербурга; г) Владивостока.

18 Ответ: б)

Критерии оценивания: за верный ответ - 1 балл.

4. Разницу между общим числом родившихся и числом умерших людей за год называют:

- а) воспроизводством; б) миграцией;
 в) естественным приростом; г) механическим приростом.

18 Ответ: в)

Критерии оценивания: за верный ответ - 1 балл.

5. Большинство россиян говорят на языках семьи:

- а) кавказской; в) уральской;
 б) индоевропейской; г) алтайской.

18 Ответ: б)

Критерии оценивания: за верный ответ - 1 балл.

6. В эпоху герцинской складчатости возникли горы:

- а) Урал и Пиренеи;
 б) Кордильеры и Аппалачи;
 в) Атлас и Гималаи;
 г) Тянь-Шань и Большой Водораздельный хребет.

00 Ответ: б)

Критерии оценивания: за верный ответ - 1 балл.

7. Алтай – Белуха; Кавказ – Эльбрус; Урал -... назовите недостающую пару Урала.

18 Ответ: гора Народная

Критерии оценивания: за верный ответ - 1 балл.

8. Расположите горные страны России в зависимости от их абсолютной высоты от самых высоких до самых низких:

1) Сихотэ - Алия; 2) Алтай; 3) Восточный Саян; 4) Урал

10 Ответ: 2, 3, 1, 4

Критерии оценивания: за верный ответ - 1 балл.

112030м 218848м

313491м

411895

214500м.

9. В каком из городов шпиль башни будет выше всего над уровнем моря, при одинаковой высоте металлической конструкции?

а) Томск; в) Ханты-Мансийск;

б) Сургут; г) Салехард.

08 Ответ: 2

Критерии оценивания: за верный ответ - 1 балл.

10. В районах платформ, где близко к поверхности расположен их фундамент, добывают:

а) нефть и природный газ; в) каменную соль;

10 б) каменный уголь; г) металлические руды.

Ответ: 2

Критерии оценивания: за верный ответ - 1 балл.

11. Самый большой показатель отраженной радиации имеет:

а) снег; в) песок;

б) чернозем; г) вода.

18 Ответ: 1

Критерии оценивания: за верный ответ - 1 балл.

12. Теплый атмосферный фронт приносит:

а) быстрое похолодание; в) морозящий дождь;

б) ясную погоду; г) ливни и грозы.

18 Ответ: 2

Критерии оценивания: за верный ответ - 1 балл.

13. Самые глубокие озера имеют происхождение:

а) ледниковое; в) тектоническое;

б) вулканическое; г) карстовое.

10 Ответ: 2

Критерии оценивания: за верный ответ - 1 балл.

14. В умеренном, в субтропическом и в тропическом климатических поясах имеется природная зона:

а) саванн;

б) жестколистных вечнозеленых лесов и кустарников;

в) влажных вечнозеленых лесов;

г) пустынь.

08 Ответ: 3

Критерии оценивания: за верный ответ - 1 балл.

15. Интереснейший район мира, с вулканами, ледниками, долиной гейзеров, водопадами и грязевыми котлами, живописен и загадочен, словно ожившая сказка.

а) полуостров Чукотка; в) полуостров Камчатка;

б) остров Сахалин; г) полуостров Крым.

18 Ответ: 2

Критерии оценивания: за верный ответ - 1 балл.

16. Определите территорию России по приведённому ниже описанию природной зоны: Весь год держатся низкие температуры, осадки выпадают редко, преимущественно в виде снега, растительность карликовая, встречаются лемминги и песцы, бывают полярные ночи и дни.

- а) архипелаг Северная Земля; в) Остров Колгуев;
б) Остров Ольхон; г) Командорские острова

08

Ответ: а, г

Критерии оценивания: за верный ответ - 1 балл.

17. Какое утверждение о движении воздушных масс является верным:

- а) Бризы меняют свое направление дважды в год;
б) В тропических широтах господствуют западные ветры;
в) Летом муссоны дуют с океана на материк;
г) В умеренных широтах господствуют пассаты

18

Критерии оценивания: за верный ответ - 1 балл.

б,

42 балла

жюри:

Пред Сорокина С.В.
Пред Фатеев Т.Р.
Пред Шмале Н.В.

355 + 175 = 525

Задания для участников 9 класса

Инструкция по выполнению работы

Время, отведенное на выполнение заданий обоих туров – 90 минут.

Максимальное количество баллов за оба тура – 70.

Внимательно прочитайте каждое задание. Ответ записывайте разборчиво.

Примечание. Не разрешается пользоваться школьными атласами и другими источниками информации.

Шифр Ш 44-ГС-01

ЗАДАНИЯ ТЕОРЕТИЧЕСКОГО ТУРА

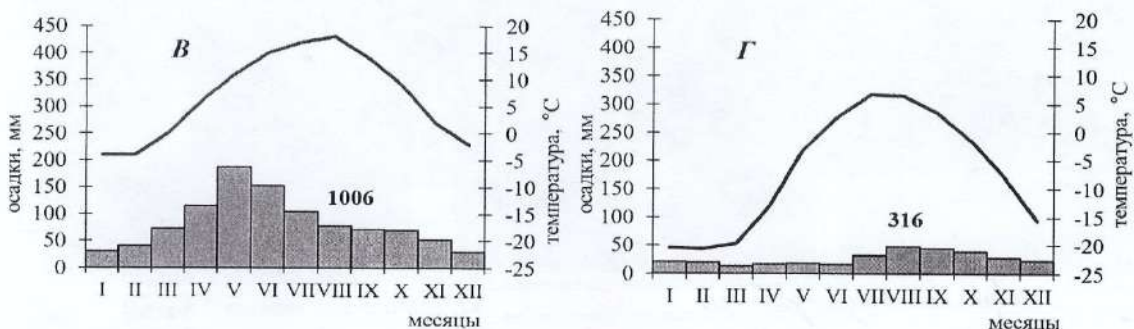
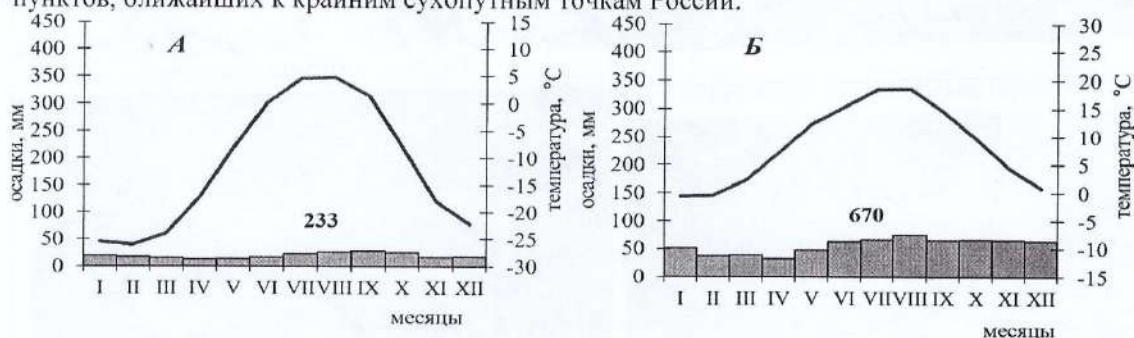
Общее количество баллов - 50 баллов

Задание 1. Заполните пропуски в тексте:

«Эта акватория самая маленькая, самая пресная, самая холодная и самая мелководная среди себе подобных. Именно перелетом через Северный Ледовитый Океан (напишите название этой акватории) в 1957 году прославился советский летчик Валерий Чкалов. В пределах этой акватории лежит одна из двух необычных точек Земли, которые имеют только одну географическую координату 90° с ш (укажите какую). Назовите эту точку Северный полюс. Этот архипелаг принадлежит и назван в честь второй по площади территории страны мира, а также именно на его территории находится точка, на которую смотрят все стрелки компасов. Назовите этот архипелаг Канский архипелаг, страну Канада и точку Северный полюс.
Критерии оценивания: за каждый правильный ответ 1 балл, всего 6 баллов.

65.

Задание 2. Перед Вами климатограммы, характеризующие климат постоянных населенных пунктов, ближайших к крайним сухопутным точкам России.



Определите, какая климатограмма соответствует каждой точке, тип и подтип климата этой района. Укажите названия крайних точек и субъект РФ, в котором они расположены. Свой ответ внесите в таблицу:

Положение крайней точки	Название крайней точки	Субъект РФ	Климатограмма	Тип и подтип климата
северная	м.г. Челюскин	Красноярский край	А	субарктический
южная	гора Базальтовая	Иркутская обл.	В	умеренно-континентальный
западная	Гытисейская коса	Камчатский край	Б	умеренный морской
восточная	м.г. Шмидт	Чукотский АО	Г	субарктический

Критерии оценивания: за каждый правильный ответ 1 балл, всего 16 баллов.

150

Задание 3. На приведённых ниже рисунках даны фрагменты карт и картосхем из Национального атласа России. Используя знания о способах изображения географических объектов и явлений на картах, определите тематику каждого из представленных фрагментов.


Фрагмент №1	Фрагмент №2
Фрагмент №3	Фрагмент №4

- Фрагмент №1 географическая 0 (за правильный ответ 2 балла)
 Фрагмент №2 нефте-и газо-добычи 0 (за правильный ответ 2 балла)
 Фрагмент №3 мелких массивов 0 (за правильный ответ 2 балла)

фрагмент №4 Историческая 0 (за правильный ответ 2 балла)
 Какой из представленных фрагментов имеет самый мелкий, а какой – самый крупный масштаб?

Мелкий масштаб 3 (правильный ответ 0,5 балла)
 Крупный масштаб 2 (правильный ответ 0,5 балла) 10

Задание 4. На фотографии изображена центральная часть исторического города нашей страны. Напротив кремля, через реку находится возвышенность, имеющая оригинальное название. Название состоит из двух слов. Первое – прилагательное, образованное от имени города, а второе – географический термин, которым обычно называют огромный массив суши, в тысячи раз больший, чем данная возвышенность.




Что это за город? Новгород 05
 В каком регионе России он располагается? Новгородская обл.
 Какие две реки сливаются у города?
 Как называется возвышенность, контрастно поднимающаяся над низменными территориями? –

Критерии оценивания: за каждый правильный ответ 1 балл, всего 4 балла.

Задание 5. По фотографии определите формы рельефа.
 Формы рельефа: столовые горы, друмлины, старица, атолл, балка, карст, бугры пучения, фиорд (фьорд), меандры.

Критерии оценивания: за каждый правильный ответ 1 балл, всего 9 баллов.

1- <u>атолл</u> <u>1</u>	2- <u>балка</u> <u>1</u>	3- <u>бугры пучения</u> <u>1</u>
4-	5-	6-



Дайте определение:

Меандры-

извилистая русла реки 2

Друмлины-

Бугры пучения-

форма рельефа, образуемая суша многолетним морозом 2

Критерии оценивания: за каждый правильный ответ 2 балла, всего 6 баллов.

135

ЗАДАНИЯ ТЕСТОВОГО ТУРА

Общее количество баллов – 20 баллов

1. Назовите море, омывающее берега республики и автономного округа Российской Федерации

- А) Белое
- Б) Баренцево
- В) Карское
- Г) Восточно-Сибирское

Ответ б 1

Критерии оценивания: за правильный ответ – 1 балл.

2. С какой из перечисленных стран Россия имеет как сухопутную, так и морскую границу?

- А) Финляндия
- Б) Швеция
- В) Монголия
- Г) Япония

Ответ а 1

Критерии оценивания: за правильный ответ – 1 балл.

В десятку городов с наихудшим качеством воздуха НЕ входит ни один город европейской территории страны (до Урала). Выберите причины загрязнения атмосферного воздуха в азиатской части Российской Федерации

- А) устойчивый зимний Сибирский антициклон
- Б) длительный отопительный сезон
- В) малое количество осадков
- Г) преимущественно угольно-мазутная энергетика
- Д) котловинный тип рельефа

Ответ ВГ 2

Критерии оценивания: за правильный ответ – 2 балла.

4. Выберите вариант, где все перечисленные субъекты РФ имеют выход к Северному Ледовитому океану

- А) Камчатский край, Чукотский АО, Магаданская область
- Б) Республика Саха (Якутия), Мурманская область, Республика Карелия
- В) Красноярский край, Ямало-Ненецкий АО, Республика Хакасия
- Г) Республика Тыва, Республика Коми, Республика Марий Эл

Ответ Б 1

Критерии оценивания: за правильный ответ – 1 балл.

5. Выберите природную зону, о которой идёт речь в следующем тексте

В нижнем течении рек Парана и Уругвай раскинулась пампа. На плодородных почвах, образовавшихся в условиях влажного субтропического климата, доминируют ковыль, пампасная трава, а также дикое просо. Животный мир пампы сравнительно беден. Встречаются безгорбые верблюды гуанако, несколько видов оленей, очень много грызунов, броненосцев. Самыми крупными травоядными животными пампы являются одичавшие кони – мустанги, завезённые конкистадорами в XVI в.

- А) саванна
- Б) тундра
- В) пустыня
- Г) лесотундра
- Д) степь

Ответ Д 1

Критерии оценивания: за правильный ответ – 1 балл.

6. Прочитайте описание. Назовите путешественника

Этот путешественник в 1577 году был отправлен в экспедицию к тихоокеанскому побережью Америки. Официальной целью путешествия было открытие новых земель, но на самом деле он должен был набрать как можно больше золота и с этим грузом вернуться на родину. В 1579 года он высадился, как предполагается, в районе Сан-Франциско (по другой гипотезе, в современном Орегоне) и объявил этот берег владением под названием «Новый Альбион». После пополнения провизии и ремонта пересёк Тихий океан и вышел к Молуккским островам. Обойдя Африку с юга, он вернулся на родину 26 сентября 1580 года, привезя клубни картофеля и огромные сокровища, поэтому был встречен как национальный герой и удостоен рыцарского звания. В немецком городе Оффенбург в 1853 году ему был поставлен памятник. Надпись на постаменте гласила: «... распространителю картофеля в Европе. Миллионы земледельцев мира благословляют его бессмертную память. Это помощь беднякам, драгоценный дар Божий, облегчающий горькую нужду». В 1939 году памятник был уничтожен нацистами.

- А) Виллем Баренц
- Б) Васко да Гама
- В) Христофор Колумб
- Г) Джеймс Кук
- Д) Фернан Магеллан
- Е) Френсис Дрейк

Ответ Е 1

Критерии оценивания: за правильный ответ – 1 балл.

7. Прочитайте описание. Назовите город Российской Федерации

Этот город-миллионер является административным центром области РФ. Город расположен в долине одной из самых крупных рек России, рядом с водохранилищем. Он находится в области континентального климата умеренного пояса: средняя температура воздуха в январе -18°C , в июле $+19^{\circ}\text{C}$. Это крупный промышленный, деловой, транспортный, научный и культурный центр. Всемирную известность этому городу принёс Академгородок, на территории которого расположены десятки научно-исследовательских институтов и государственный университет.

Ответ Санкт-Петербург 0

Критерии оценивания: за правильный ответ – 2 балла.

8. Определите субъект Российской Федерации по его описанию

На территории этого автономного округа находится одна из крайних точек России. Он омывается водами морей, относящихся к бассейнам двух океанов. Средняя плотность населения здесь ниже среднероссийского показателя. Коренное население, относящееся к малочисленным народам Севера, занимается оленеводством, промыслом рыбы и морского зверя. В последние годы экономика региона стала активно развиваться.

Ответ Чукотский АО 2

Критерии оценивания: за правильный ответ – 2 балла.

9. Какой вклад в мировую науку принадлежит военному гидрографу и картографу Френсису Бофорту?

- А) Изобретение астролэбии и первое измерение скорости течения в проливе Ла-Манш.
- Б) Первое измерение глубины Марианской впадины.
- В) Разработка шкалы для измерения силы землетрясений.
- Г) Разработка шкалы для измерения силы ветра.

Ответ Г 1

Критерии оценивания: за правильный ответ – 1 балл.

10. Выберите горную породу, с которой связано добыча алмазов

- А) пегматит
- Б) гранит
- В) сильвинит
- Г) алунит
- Д) кимберлит

Ответ А 1

Критерии оценивания: за правильный ответ – 1 балл.

11. Выберите явление, о котором идёт речь в следующем тексте

Масса льда преимущественно атмосферного происхождения, испытывающая вязкопластическое течение под действием силы тяжести и принявшая форму потока, системы потоков, купола (щита) или плавучей плиты.

- А) айсберг
- Б) лавина
- В) ледник
- Г) торос
- Д) шуга

Ответ В 1

Критерии оценивания: за правильный ответ – 1 балл.

12. О каком природном объекте идёт речь?

В Западной Сибири, между Обью и Иртышом, на Васюганской равнине расположен крупнейший во всём Северном полушарии и в России природный объект, по площади превосходящий размеры Швейцарии. Его территория вмещает около 800 тысяч небольших озёр и множество рек, которые берут здесь своё начало, а также является домом для многочисленной местной фауны, в том числе редкой. Объект содержит большие запасы торфа.

Ответ Васюганское болото 2

Критерии оценивания: за правильный ответ – 2 балла.

13. Выберите верную пару: озеро-субъект РФ, в котором оно расположено

- А) Баскунчак-Республика Калмыкия
- Б) Ханка-Амурская область
- В) Имандра- Республика Карелия
- Г) Чаны-Тюменская область
- Д) Пясино-Красноярский край

Ответ Д 1

Критерии оценивания: за правильный ответ – 2 балла.

14. Представьте: вы летите над материком из Анадыря в Москву. В какой последовательности вы пересечёте эти реки?

- 1) Енисей;
- 2) Колыма;
- 3) Лена;
- 4) Обь.

Ответ 2314 1

Критерии оценивания: за правильный ответ – 1 балл.

15. Прочитайте отрывок стихотворения А. Понаморенко. О каком природном объекте говорится в нём?

вёшься ты сквозь топи, сквозь тайгу,
Летом вся блестя, зимой-белея,
В твердом льду и дымчатом снегу.
Знать, не зря кормилицей назвали
Мы тебя не раз, не раз твоею лишь
Добротой мы, ханты, выживали...
И богатства пересечешь едва ли
Те, что ты за пазухой хранишь.
Лишь с весной освободятся воды,
Ты подьмешь баржи, теплоходы,
Островами движутся плоты...
Города, поселки и заводы
На себе на север тащишь ты...

Ответ река Обь 1

Критерии оценивания: за правильный ответ – 1 балл.

175

Жюри:

Пред Сорокина С.В.
Тим Тажиев Т. Р.
Шиф Шмаль Н. В.

4+9,5=13,5

Всероссийская олимпиада по географии
2022/23 учебный год
Школьный этап

Задания для участников 10 класса

Время, отведенное на выполнение заданий обоих туров – 90 минут

Максимальное количество баллов за оба тура – 66.

Внимательно прочитайте каждое задание. Ответ записывайте разборчиво.

Примечание. Не разрешается пользоваться школьными атласами и другими источниками информации.

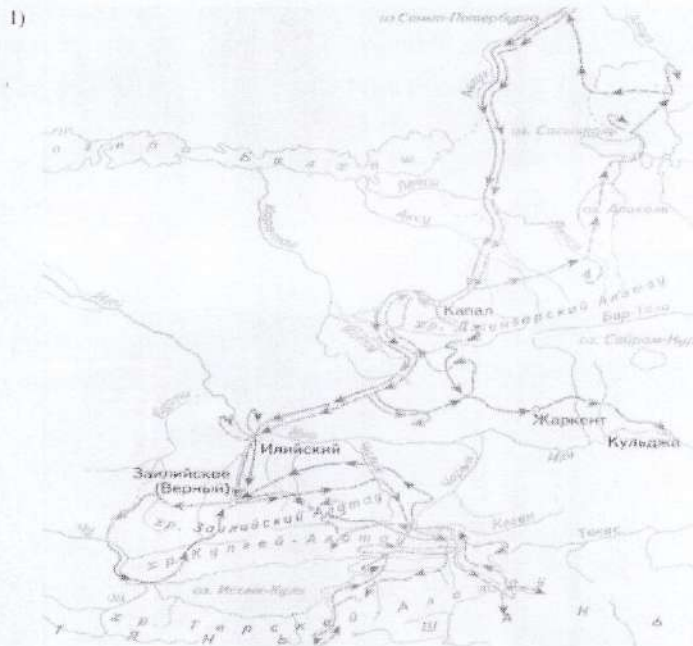
Шифр Ш44-Г10-03

ЗАДАНИЯ ТЕОРЕТИЧЕСКОГО ТУРА

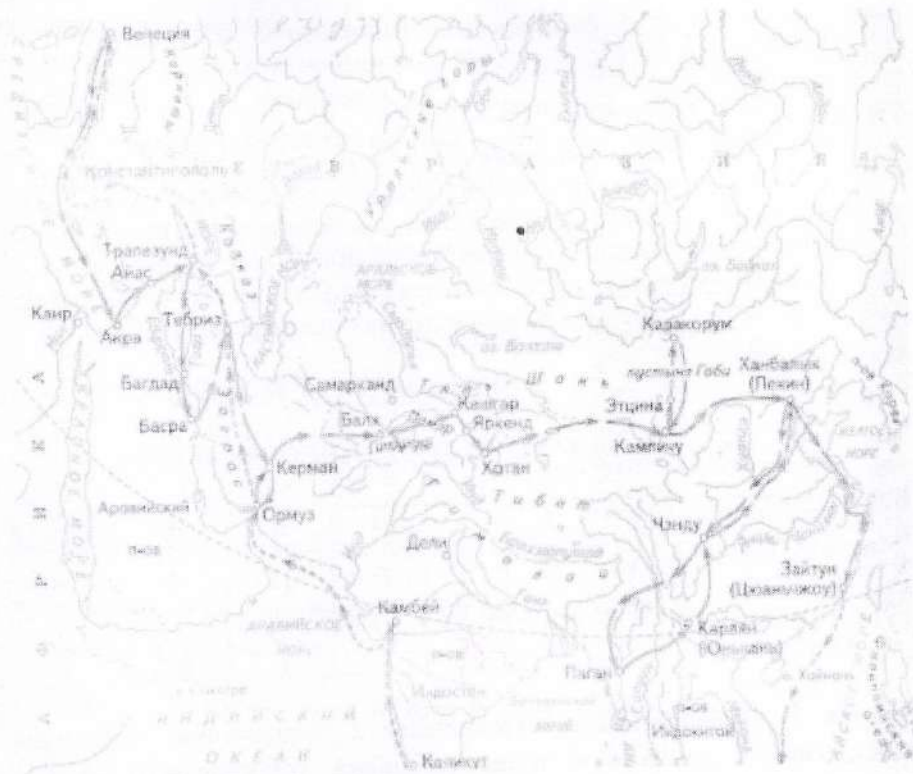
Задание	1	2	3	4	5	6	Итого
Максимальное кол-во баллов	2	10	5	10	15	6	48
Оценка участника	2	0	0	1	1	0	4

Задание 1. Выберите номер картосхемы с маршрутами экспедиций выдающегося отечественного географа и путешественника, проводившего свои исследования в обширном субрегионе, значительная часть которого относится к области внутреннего стока. В честь исследователя названы горные хребты и горные вершины в районе его исследования, а также один из подвидов травоядного млекопитающего.

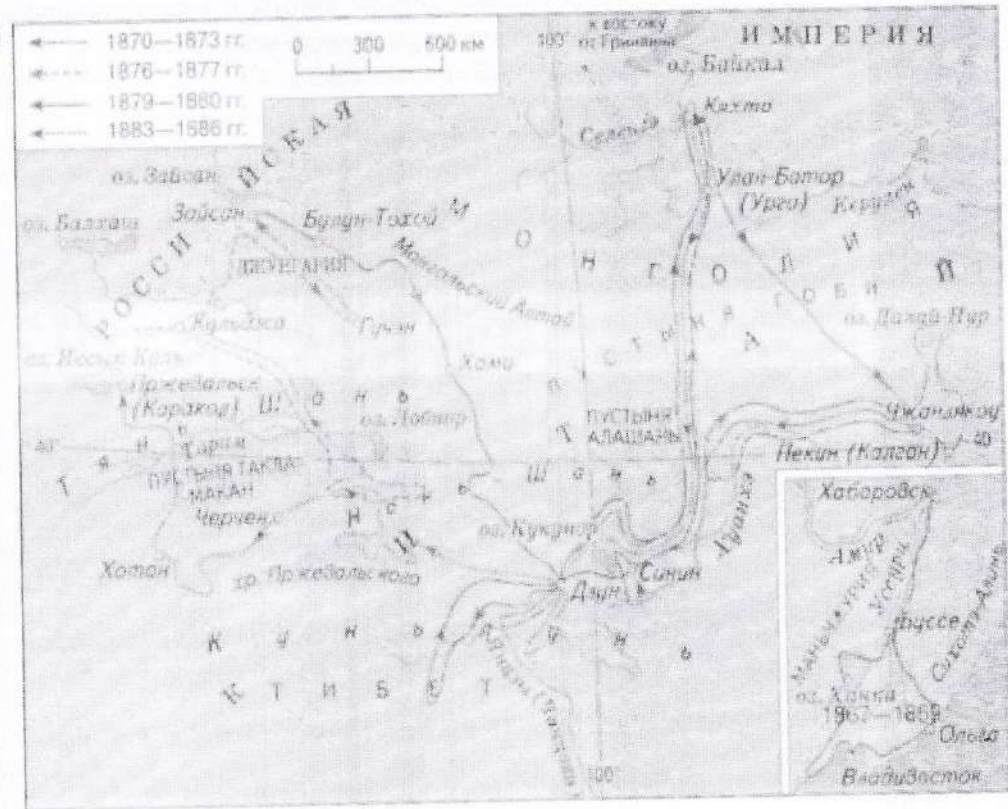
Критерии оценивания: за правильный ответ 2 балла.



2)



3)



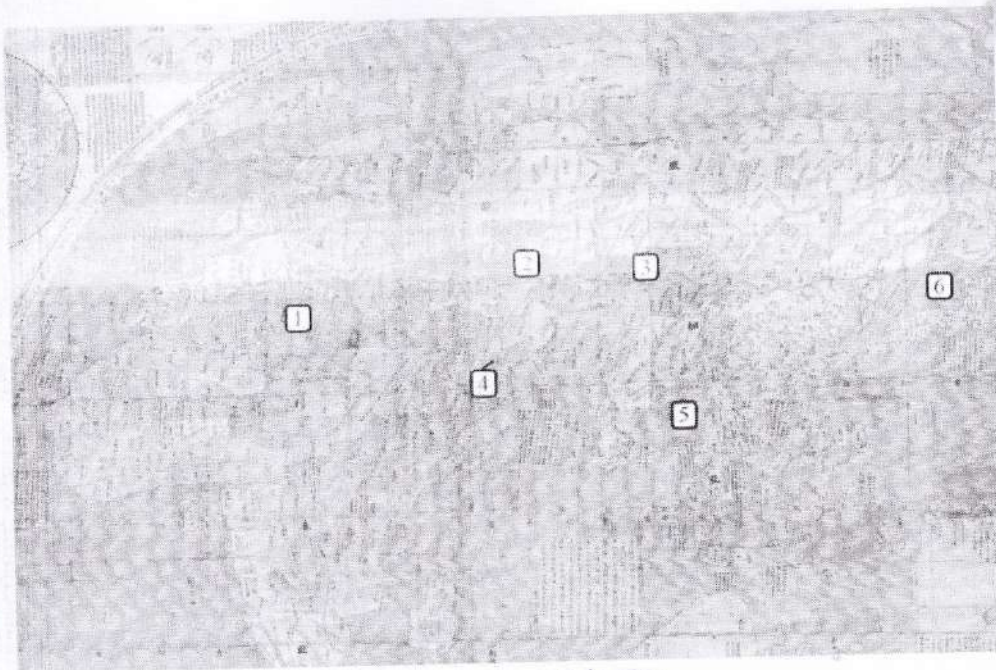
Задание 2. Определите ошибку в логических рядах географических объектов России. В скобках к каждому ряду дана подсказка, которая помогает объяснить, по какому принципу исключается географический объект. Объясните причину выбора ошибки. Учтите, что все географические объекты должны характеризовать особенности географии России. Ответы занесите в таблицу.

- 1) Сургут – Нижневартовск – Омск – Новосибирск – Барнаул (географическое положение)
- 2) Махачкала – Нальчик – Ставрополь – Сыктывкар – Саранск (административно-территориальное устройство)
- 3) Новокузнецк – Магнитогорск – Нижний Тагил – Череповец – Саяногорск (промышленность)
- 4) Краснодарский край – Алтайский край – Омская область – Республика Башкортостан – Оренбургская область (зерновое хозяйство)
- 5) Новороссийск – Приморск – Ванино – Астрахань – Мурманск (транспорт)

№ п/п	Ошибка в логическом ряду (1 балл за верный ответ)	Причина ошибки (1 балл за верный ответ)
1	Барнаул	не в той стороне, в отличие от других городов
2	Саранск	не подходит по административно-территориальному устройству.
3		
4	Омская область	Зерновое хозяйство не подходит
5		

Критерии оценивания: за каждый правильный ответ 1 балл, всего 10 баллов.

Задание 3. Перед вами фрагмент китайской карты мира, изготовленной в 1602 г. (карта Маттео Риччи), на которой цифровыми индексами обозначены обособленные части Мирового океана. Мы уверены, что вы легко определите пронумерованные водные объекты, учитывая их расположение и очертания на представленной карте. В качестве задания мы предлагаем вам расположить данные объекты в порядке возрастания их средней глубины. Ответ запишите по образцу: 1_4_5_2_6_3



234561

Критерии оценивания: за правильный ответ 5 баллов.

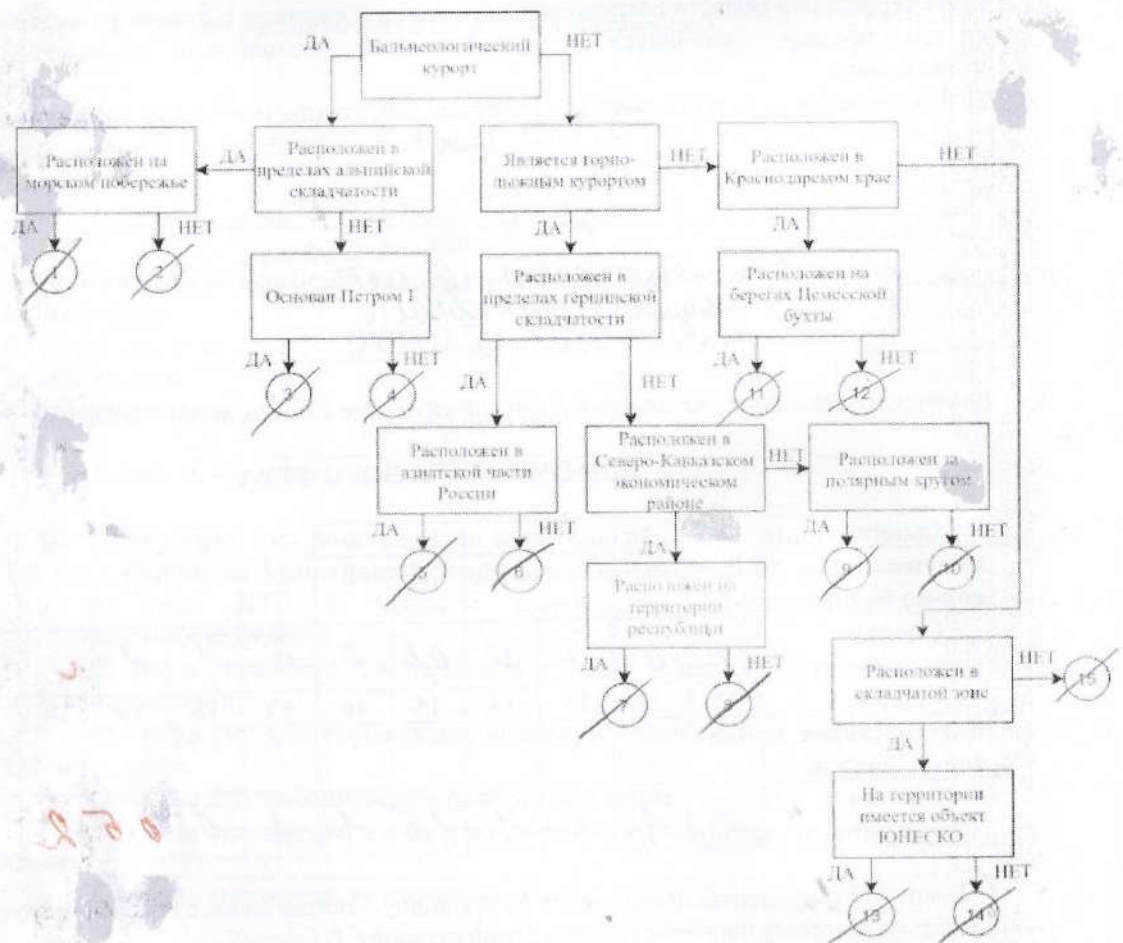
Задание 4. У Н.С. Гумилева много «географических стихотворений». Вот отрывок из одного из них. Ответьте на вопросы в правой колонке таблицы.

<p>Здравствуй, _____ море, акуля уха, Негритянская ванна, песчаный котел! На утесах твоих вместо влажного мха Известняк, словно каменный кактус, расцвел... ...Целый день над водой, словно стая стрекоз. Золотые летучие рыбы видны, У песчаных, серпами изогнутых кос Мели, точно цветы, зелены и красны.... ... И когда выплывает луна на зенит, Ветр проносится, запахи леса тая, От Суэца до Баб-эль-Мандеба звенит, Как Эолова арфа, поверхность твоя.</p>	<p>1) Что это за море? <u>Чёрное - Красное</u> 2) Какова его солёность? 3) Какие части света омывает? 4) Чем объясняется его название? 5) Почему его называют «акульей ухой»? 6) С какими океанами и как оно связано? 7) Назовите город, расположенный недалеко от его побережья и хранящий святыни одной из мировых религий.</p>
---	---

Критерии оценивания: за каждый правильный ответ 1 балл, всего 7 баллов.

Задание 5. Следуя алгоритму, распределите перечисленные курорты по соответствующим номерам.

Липецк	11	Марциальные Воды	2	Губаха	9
Домбай	1	Новороссийск	4	Кисловодск	3
Ейск	13	Мацеста	5	Яхрома	8
Сестрорецк	15 1	Дербент	14	Гурзуф	7
Красная Поляна	12	Кировск	10	Белокуриха	6



Критерии оценивания: за каждый правильный ответ 1 балл, всего 15 баллов.

Задание 6. Определите названия областей РФ – А, Б, В, которые обладают следующими характеристиками:

- все три субъекта РФ входят в состав одного экономического района и имеют выход к государственной границе;
- в субъектах РФ А и Б численность населения областных центров менее 500 тыс. человек;
- в регионах Б и В действуют АЭС.

Прочитайте дополнительные характеристики субъектов РФ и определите, какие из них будут касаться определённых Вами областей (три характеристики для каждой области).

- 1) Название центра субъекта РФ дало имя крупнейшему бассейну железных руд в нашей стране.
- 2) На территории области в 1943 году произошло самое крупное в истории танковое сражение.
- 3) Областной центр стоит на реке, относящейся к бассейну самого тёплого моря, омывающего берега нашей страны.
- 4) В субъекте РФ действует крупный электрометаллургический комбинат.
- 5) Название субъекта РФ дало название тектонической структуре, представляющей собой поднятие кристаллического фундамента платформы.
- 6) На территории области расположен заповедник, в названии которого фигурирует тип самой плодородной почвы нашей страны.

- 7) На территории области расположен заповедник, символом которого является выхухоль, в его пределах находится музей-заповедник, знаменитый своими пещерными монастырями.
- 8) В регионе производят самолёты и ракетные двигатели для космической техники.
- 9) Субъект РФ граничит с областью, административный центр которой был столицей соседней республики в 1919–1934 гг.

Буква области	Название области
А	↑ Ингушская область
Б	↓ Владимирская область
В	Суровская область

Критерии оценивания: за каждый правильный ответ 2 балла, всего 6 баллов.

ЗАДАНИЯ ТЕСТОВОГО ТУРА

Задание	1	2	3	4	5	6	7	8	9	10	Итого
Максимальное кол-во баллов	0,5	0,5	0,5	0,5	0,5	1	0,5	1	1	1	
Оценка участника	0	0	0	0	0,5	0	0	1	1	0	
Задание	11	12	13	14	15	16	17	18	19	20	
Максимальное кол-во баллов	0,5	1	0,5	1	0,5	1	1	1,5	2	2	18
Оценка участника	0	1	0	1	1,5	1	1	0	0,5	2	9,5

1. Какое из утверждений, построенных по принципу: «пограничное с Россией государство – объект, по которому проходит граница с этой страной», НЕверно?
- а) КНР – река Шилка.
 б) Украина – Донецкий край.
 в) Финляндия – гряда Манселья.
 г) Эстония – Псковское озеро.

Ответ: Г

Критерии оценивания: за правильный ответ - 0,5 балла.

2. Какой географический объект не носит имя Витуса Беринга

- а) остров
 б) залив
 в) море
 г) пролив

Ответ: а

Критерии оценивания: за правильный ответ - 0,5 балла.

3. Какое государство является одновременно монархией и федерацией?

- а) Австрия:
 б) Бельгия:
 в) Швеция:
 г) Великобритания.

Ответ: Г

Критерии оценивания: за правильный ответ - 0,5 балла.

4. Какая из стран располагается на разных материках?

- а) Россия;
- б) Казахстан;
- в) Турция;
- г) Египет.

Ответ: а

Критерии оценивания: за правильный ответ - 0,5 балла.

5. 90% населения Бразилии говорит на языке:

- а) испанском;
- б) португальском;
- в) английском;
- г) бразильском.

Ответ: б 0,5

Критерии оценивания: за правильный ответ - 0,5 балла.

6. Суэцкий канал был восстановлен и реконструирован. Почему же большая часть грузов в Европу из Азии транспортируется вокруг Африки?

- а) из-за НТР в морском судоходстве, проявившейся в увеличении грузоподъемности судов;
- б) из-за опасности столкновения судов в Красном море, так как оно имеет небольшую ширину;
- в) из-за высоких таможенных пошлин и транспортных затрат на проводку через Суэцкий канал;
- г) из-за действия пиратов в прибрежных водах;
- д) из-за осложнений в зоне арабо-израильского конфликта.

Ответ: б

Критерии оценивания: за правильный ответ - 1 балл.

7. Выберите неверное соответствие между транспортной магистралью и её типом.

- а) «Балтика» – нефтепровод
- б) «Транссиб» – железная дорога
- в) «Северный поток» – газопровод
- г) «Дон» – автомобильная магистраль

Ответ: г

Критерии оценивания: за правильный ответ - 0,5 балла.

8. Выберите неверное соответствие «учёный – достижения».

- а) Н.И. Вавилов – создал учение о мировых центрах происхождения культурных растений.
- б) П.П. Семёнов-Тян-Шанский – основоположник генетического почвоведения и учения о природных зонах
- в) Ч. Лайель – заложил основы современной геологии.
- г) В.В. Докучаев – сформулировал закон географической зональности.

Ответ: б 1

Критерии оценивания: за правильный ответ - 1 балл.

9. Выберите название титульного этноса самого северного национального субъекта РФ Европейской России.

- а) саамы
- б) карелы
- в) якуты
- г) ненцы

Ответ: г 1

Критерии оценивания: за правильный ответ - 1 балл.

10. Выберите верное утверждение о чёрной металлургии в России.

- а) Россия занимает первое место в мире по выплавке стали.
- б) Металлургические заводы Центральной России используют сырьё КМА.
- в) Череповецкий металлургический комбинат использует железорудный концентрат и коксующийся уголь Казахстана.
- г) Старейшая база чёрной металлургии России расположена в Сибири.

Ответ: а

Критерии оценивания: за правильный ответ - 1 балл.

11. Выберите верное утверждение о машиностроении в России.

- а) Основная часть производства автомобилей сосредоточена в Северо-Западном экономическом районе.
- б) Выборг, Архангельск, Комсомольск-на-Амуре – центры авиастроения.
- в) Тихвин, Тверь и Верхняя Пышма являются центрами железнодорожного машиностроения.
- г) Новосибирск, Белгород, Екатеринбург – крупные центры производства грузовых автомобилей.

Ответ: а

Критерии оценивания: за правильный ответ - 0,5 балла.

12. Посетив какой субъект РФ, Вы окажетесь вблизи зоны субдукции?

- а) Краснодарский край
- б) Камчатский край
- в) Алтайский край
- г) Приморский край

Ответ: б 1

Критерии оценивания: за правильный ответ - 1 балл.

13. Выберите регион с наиболее плодородными почвами.

- а) Московская область
- б) Владимирская область
- в) Нижегородская область
- г) Ульяновская область

Ответ: б

Критерии оценивания: за правильный ответ - 0,5 балла.

14. Выберите вариант, в котором все указанные города являются столицами монархий.

- а) Осло, Мбабане, Хельсинки, Дублин
- б) Абу-Даби, Лондон, Масеру, Нукуалофа
- в) Джакарта, Бандар-Сери-Бегаван, Куала-Лумпур, Дакка
- г) Катманду, Тхимпху, Мадрид, Кабул

Ответ: б 1

Критерии оценивания: за правильный ответ - 1 балл.

15. Хамсин – это название...

- а) народа
- б) ветра
- в) реки
- г) горы

Ответ: б

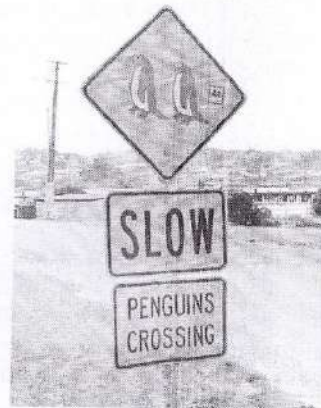
Критерии оценивания: за правильный ответ - 0,5 балла.

16. Для защиты животных во многих странах разработаны дорожные знаки, предупреждающие водителей и призывающих их к бдительности. В одном регионе мира общая численность пингвинов сейчас составляет около 50 тыс., но они внесены в Красную книгу этой страны и Международную красную книгу региона как вид, которому грозит вымирание. Поэтому дорожный знак «Осторожно, пингвины!» выглядит здесь вполне органично. В какой из перечисленных стран размещен следующий знак?

- а) Египет
- б) ЮАР
- в) Чили
- г) Испания

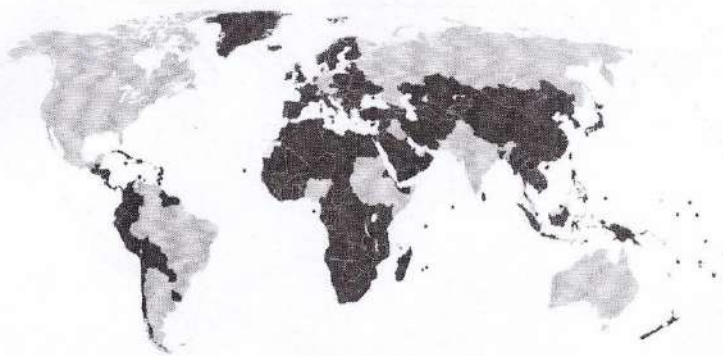
Ответ: в

Критерии оценивания: за правильный ответ - 1 балл.



17. Выберите верный вариант ответа. Более светлым цветом на этой карте отмечены государства:

- а) с федеративной формой государственного устройства
- б) с монархической формой правления
- в) с наименьшей плотностью населения
- г) с наибольшей водообеспеченностью на душу населения.



Ответ: а

Критерии оценивания: за правильный ответ - 1 балл.

18. Выберите строки, в которых указана общая черта для Австралии и Сомали:

- А) дефицит поверхностных вод и сезонный характер водности рек

- Б) в столицах стран проживает почти половина их населения
- В) страны по государственному устройству являются федерациями
- Г) рельеф обеих стран – преимущественно равнинный
- Д) относятся к странам со среднемировой плотностью населения
- Е) восточные побережья стран омываются тёплыми течениями

Ответ: е

Критерии оценивания: за правильный ответ - 0,5 балла.

19. Выберите из списка географические объекты, относящиеся к Германии:

- а) Гауда б) Гарц в) Вадуц г) Дунай
- д) Росток е) Энгельс ж) Тейде з) Тюрингия

Ответ: бв

Критерии оценивания: за правильный ответ – 2 балла.

20. Расположите города мира в хронологической последовательности года их основания (от самого древнего к самому молодому):

- А) Иерусалим Б) Гавана В) Киров Г) Красноярск

Ответ: АВБГ

Критерии оценивания: за правильный ответ – 2 балла.

Мюри:

Мур *Сорокина С. В.*
Том *Тадму Т. Х.*
Шам *Шмелев Н. В.*

165 + 47 = 63

Всероссийская олимпиада по географии
2022/23 учебный год
Школьный этап

Задания для участников 11 класса

Время, отведенное на выполнение заданий обоих туров – 90 минут
Максимальное количество баллов за оба тура – 100.

Внимательно прочитайте каждое задание. Ответ записывайте разборчиво.

Примечание. Не разрешается пользоваться школьными атласами и другими источниками информации.

Шифр М44-511-01

Часть 1 – тестовый тур

1. Укажите государство, к которому относятся Фарерские острова:

- а) Португалия;
- б) Испания;
- в) Дания;
- г) Швеция.

Ответ: в

Критерии оценивания: за правильный ответ - 1 балл.

2. Определите страну по ее краткому описанию.

В этой стране железнодорожный транспорт получил развитие достаточно давно, и сегодня не играет ведущей роли, но по показателям его работы, например, по грузообороту, страна прочно лидирует в мире. Страна также лидирует по протяженности сети железных дорог, однако доля электрифицированных дорог крайне мала, и составляет всего 1%.

- а) Россия;
- б) Канада;
- в) Китай;
- г) США;
- д) Германия.

Ответ: а

Критерии оценивания: за правильный ответ - 1 балл.

3. Выберите вариант, в котором присутствуют только страны – абсолютные монархии:

- а) Великобритания, Дания, Испания;
- б) ОАЭ, Катар, Оман;
- в) Германия, Австрия, Индия;
- г) США, Франция, Россия.

Ответ: б

Критерии оценивания: за правильный ответ - 1 балл.

4. Укажите остров, на котором находятся территория формально одного государства, а фактически - двух государств:

- а) Тимор;
- б) Калимантан;
- в) Кипр;
- г) Крымский;
- д) Ирландия.

Ответ: д

Критерии оценивания: за правильный ответ - 1 балл.

5. В какой из стран столица не является крупнейшим городом своей страны?

- а) Египет
- б) Франция
- в) Чехия
- г) Аргентина
- д) Швейцария

Ответ: г 1

Критерии оценивания: за правильный ответ - 1 балл.

6. Выберите группу стран с самым высоким естественным приростом населения:

- а) КНДР, США, Австралия, Япония;
- б) Испания, Сан-Марино, Словакия, Россия;
- в) Латвия, Сербия, Болгария, Украина;
- г) Нигер, Уганда, Малави, Бурунди.

Ответ: г 1

Критерии оценивания: за правильный ответ - 1 балл.

7. Выберите группу стран с самым высоким естественным приростом населения:

- а) КНДР, США, Австралия, Япония;
- б) Испания, Сан-Марино, Словакия, Россия;
- в) Латвия, Сербия, Болгария, Украина;
- г) Нигер, Уганда, Малави, Бурунди.

Критерии оценивания: за правильный ответ - 1 балл.

8. Выберите группу стран с минимальным уровнем урбанизации в мире:

- а) Бельгия, Венесуэла, Великобритания, Австралия;
- б) Бурунди, Малави, Уганда, Кения;
- в) Чехия, Россия, Болгария, Швейцария;
- г) Германия, Белоруссия, Греция, Испания. 1

Критерии оценивания: за правильный ответ - 1 балл.

9. Выберите вариант, в котором представлены только самые крупнейшие морские порты мира:

- а) Нагоя, Хьюстон, Антверпен, Тибя;
- б) Гамбург, Сан-Луис, Ванкувер, Иокогама;
- в) Амстердам, Хошимин, Ричардс-Бей, Кобе;
- г) Шанхай, Сингапур, Тяньцзинь, Гуанчжоу. 1

Критерии оценивания: за правильный ответ - 1 балл.

10. Определите страну по ее краткому описанию.

Эта страна входит в десятку крупнейших в мире по площади и по населению. Страна имеет большую долю обрабатываемых земель и благоприятные агроклиматические условия. Большая часть расположена в пределах докембрийской плиты. Недра страны богаты месторождениями железных, медных, марганцевых, вольфрамовых руд, бокситов, хромитов, слюды, золота, алмазов, редких и драгоценных камней, а также каменного угля, нефти и газа. Приморская полоса восточного побережья местами заболочена. Большая доля водных ресурсов приходится на две крупных реки, протекающих на севере страны и общую дельту, занимающую площадь свыше 80 тыс. км². Слабо расчленённые, низкие, песчаные берега почти не имеют удобных естественных гаваней, поэтому крупные порты расположены либо в устьях рек, либо устроены искусственно. Почти 70% жителей страны проживают в сельских регионах, хотя за последние десятилетия миграция в большие города привела к резкому увеличению городского населения.

Ответ: Страна Бразилия

Крупнейшая река Амазонка 1

Критерии оценивания: за каждый правильный ответ - 1 балл, всего - 2 балла.

11. В таблице приведены данные по запасам и добыче природного газа в России в 2015 г. (млрд.м³) по крупнейшим разрабатываемым месторождениям. Определите два месторождения, являющимися лидерами по показателю ресурсообеспеченности

Месторождение	Запасы	Добыча	Ресурсообеспеченность
Уренгойское	5370	89,7	
Заполярье	2274	79,3	
Ямбургское	3057	61,8	
Астраханское	3076	11,1	
Медвежье	556	7,6	

Ответ: 1 место Астраханское 2 место Медвежье 2

Критерии оценивания: за каждый правильный ответ - 1 балл, всего - 2 балла.

12. Какая страна из предложенного списка омывается водами только одного океана?


- а) Египет
- б) Израиль
- в) Колумбия
- г) Марокко
- д) Таиланд

Ответ: д) 0

Критерии оценивания: за правильный ответ - 1 балл.

13. Прочитайте описание. Назовите страну.

Этот флаг был официально принят в 1969 году. Он диагонально разделен на две части: верхняя левая часть – желтого цвета, а нижняя правая часть – оранжевого цвета. Посередине флага страны находится эмблема белого дракона, смотрящего направо. Дракон держит драгоценности в своих когтях, что обозначает богатство государства. Изображенный на флаге дракон символизирует местное наименование страны – Земля Дракона. Рычащий рот дракона представляет собой силу народа, защищающего свою страну. Оранжевый цвет обозначает монастыри и религию местную религию, а оранжево-желтый цвет символизирует светскую власть монарха. Белый цвет обозначает чистоту и преданность.



- а) Непал
- б) Бутан
- в) Бруней
- г) Камбоджа
- д) Япония

Ответ: Страна б) 2

Критерии оценивания: за правильный ответ - 2 балла.

14. Найдите по одному лишнему слову в каждом варианте, характеризующем отдельную страну:

- а) Беларусь: зубр, полесье, картофель, МАЗы, золото, Днепр;
- б) Италия: мода, НАТО, Рурский бассейн, туризм, рыба, Фиат, Сардиния.

Ответ: Зубр, Рурский бассейн 2

Критерии оценивания: за каждый правильный ответ - 1 балл, всего - 2 балла.

15. Выберите показатели, которые характерны и для Бразилии, и для Индии:

- а) входят в десятку крупнейших стран по численности населения

- б) слабоурбанизированные страны
- в) федеративные республики
- г) входят в пятёрку стран-лидеров по добыче железной руды
- д) высокая грамотность населения
- е) являются членами БРИКС
- ж) крупнейшие экспортёры судов
- з) отраслью специализации является нефтяная промышленность

Запишите буквы, под которыми указаны все правильные варианты ответа.

Ответ: а), б), г), е) **2**

Критерии оценивания: за каждый правильный ответ - 1 балл, всего - 4 балла.

16. Выберите из предложенного списка термины, обозначающие местные ветры.

- | | |
|-------------|-------------|
| а) фригана | ж) верховик |
| б) мистраль | з) сюрин |
| в) буря | и) сирокко |
| г) падун | к) пассат |
| д) хабуб | |
| е) гало | |

Запишите буквы, под которыми указаны все правильные варианты ответа.

Ответ: а), з), г), и) **2**

Критерии оценивания: за каждый правильный ответ - 1 балл, всего - 5 баллов.

17. Почитайте отрывок из сказки С. Лагерлеф «Чудесное путешествие Нильса с дикими гусями». Почему путешественники никак не могли дожждаться наступления ночи?

«... А солнце катилось по небу и уставало светить.

– Не понимаю. – сказал Мартин. – летим, летим, а вечер так все никак не наступит. До чего же спать хочется!

– И мне спать хочется! – сказала Марта. – Глаза слипаются.

– Да и я бы не прочь вздремнуть, – сказал Нильс.

– Смотри, смотри, Мартин, вон аисты на болоте спят. Тут, в Лапландии, все по-другому. Может, здесь вместо луны всю ночь солнце светит?»

Ответ: День не ночь

Критерии оценивания: за правильный ответ - 2 балла.

18. Определите субъект Российской Федерации по его описанию:

Данный субъект расположен в восточной части страны, его территория омывается водами Мирового океана. По его территории протекает одна из крупнейших рек России. На этой реке есть ГЭС, в регионе отсутствуют АЭС, но работают мощные ТЭС на топливе, в основном добываемом в этом же субъекте.

- а) Хабаровский край;
- б) Красноярский край;
- в) Забайкальский край;
- г) Чукотский автономный округ;
- д) Иркутская область.

Ответ: а) **0**

Критерии оценивания: за правильный ответ - 2 балла.

19. Для какого города указано НЕ ПРАВИЛЬНОЕ расположение на берегу реки?

- а) Барнаул – Обь;
- б) Якутск – Лена;
- в) Иркутск – Ангара;
- г) Пермь – Волга;
- д) Хабаровск – Амур;

Ответ: а) 0

Критерии оценивания: за правильный ответ - 2 балла.

20. Как звали погибшего хантыйского князя, в честь которого назван исторический район города

Столица Ханты – Мансийского автономного округа – Югры – город Ханты – Мансийск. Ровно 430 лет назад здесь произошло важное историческое событие: небольшой отряд атамана Ермака под предводительством Богдана Брызги подошёл на лодках к хантыйскому поселению. Между казаками и ханты произошло сражение. Но казаки пошли на хитрость: они смастерили чучела людей и посадили их в лодки. Стрелы ханты со звоном отскакивали от чучел. В результате князь хантыйского поселения погиб, а все жители присягнули на верность московскому царю.

Ответ: Буряк 0

Критерии оценивания: за правильный ответ - 3 балла.

Часть 2 – теоретический тур

Задание 1. Вставьте пропущенные слова в данный текст описания одной из стран мира.

Рельеф страны преимущественно горный, горы занимают 71% территории, имеются многочисленные действующие и потухшие вулканы в том числе и высшая точка страны – Фудзияма (на острове Хоккайдо, высотой 3776 м). Полезными ископаемыми бедна, практическое значение имеют лишь запасы каменного угля. Добывается также сера, йод, золото и серебро.

На севере страна омывается Фромеским морем, на западе _____ морем, на юго-западе – Корго-Кичийским морем, на востоке – Японским океаном.

Климат большей части территории – субтропический муссонный, на севере – умеренный, на юге – тропический. Свыше 2/3 занято лесами: на севере – хвойными, в центральной части – широколиственными и на юге – субтропическими вечнозелеными.

Является развитой страной, значительную долю в экономике занимает сфера услуг. По объему промышленного производства занимает одно из первых мест в мире. В обрабатывающей промышленности наиболее развиты машиностроение (производство автомобилей, электроники и электротехники, судов, станков), чёрная металлургия, химическая, текстильная и пищевая промышленность. Основным средством передвижения является автотранспорт, использующий право стороннее движение.

По форме правления страна является Конституционной монархией во главе с императором. Население практически однородное, лишь на севере острова проживают _____. В стране проживает 126 млн. человек (в 2018 г.), и по этому показателю она находится на 10 месте в мире. Большинство верующих – буддисты и христиане, причем, обычно исповедуют сразу две религии. Столицей страны является город Токио. В пределах столичной агломерации проживают 35 млн. человек (2017 г.).

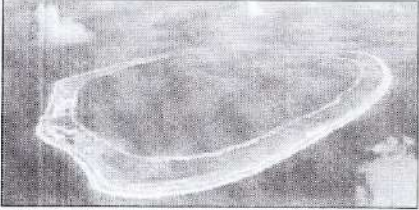




Критерии оценивания: за каждый правильный ответ - 1 балл, всего - 16 баллов.

85

Задание 2. Вам предлагаются описания и изображения некоторых форм рельефа, различных по своему происхождению и геоморфологических (геоморфология – наука о происхождении и формах рельефа) процессов и явлений. Выберите из предложенных списков эти формы рельефа или процессы и впишите в соответствующую колонку таблицы.

1. **Формы рельефа:** столовые горы, старица, атолл, бугры пучения, фиорд (фьорд),

№	Описание формы рельефа	Название
---	------------------------	----------

№	Описание формы рельефа	Название
1.	<p>Кольцевой коралловый риф, морфологически представляющий собой узкую гряду с замкнутой (или полузамкнутой) внутри лагуной. Размеры их различны – от нескольких километров до нескольких десятков километров. Есть поднятые (остров Науру) и погруженные (банка Робби) вследствие тектонических движений их оснований.</p>  <p>Большинство концентрируются в Индо-Тихоокеанском тропическом поясе, однако известны они и в Атлантике, например, в Карибском море и у побережья Бразилии.</p>	<p>Атолл</p> <p>1</p>
2.	<p>Формы рельефа, образующиеся при промерзании переувлажненных грунтов. Широко распространены в тундре и тайге. Подобный вид, но более крупные размеры (около 100 м в поперечнике и до 20 м высоты) имеют гидролакколиты и булгуньяхи в Якутии.</p> 	<p>Бугры тундры</p> <p>1</p>
3.	<p>Старое отделившееся русло реки в излучине, превратившееся в озеро. Впоследствии в таких местах образуются сырые ложбины.</p> 	<p>Старица</p> <p>1</p>
4.	<p>Платообразные горные сооружения с усеченной, плоской вершиной. Как правило, сложены из осадочных горных пород. Склоны такой горы обычно крутые, почти отвесные. В разрезе этот вид геологических образований имеет продолговатую форму, то есть в одном из направлений плато на вершине горы вытянуто. Своей усеченной в верхней части формой обязаны процессам денудации – эрозии и выветриванию. Одной из разновидностей являются те горы, у которых их плоская вершина сложена не из осадочных пород, а покрыта затвердевшей вулканической корой из лавы. Такие горы на Гвианском нагорье называются тепуи.</p> 	<p>Столбовые горы</p> <p>1</p>
5.	<p>Узкий глубокий морской залив с высокими крутыми скалистыми берегами, далеко вдающийся в сушу. Образование таких форм увязывают с внедрением моря в ледниковые долины либо в тектонические разломы. Распространены по берегам Скандинавского п-ова, на Кольском п-ове, Чукотке.</p> 	<p>Фьорд</p> <p>1</p>

2. Процессы: криогенные процессы, аккумуляция, денудация, карст, эоловые процессы.

№	Описание геологического процесса	Название
1.	Процессы накопления рыхлого минерального материала и органических остатков на поверхности суши и на дне водоемов. В зависимости от основного фактора, вызывающего этот процесс, выделяют морскую, озерную, речную, ветровую, биогенную, антропогенную и другие типы.	Аккумуляция 1
2.	Процесс сноса и частичного перемещения продуктов выветривания горных пород под действием разных факторов и агентов (гравитации, воды, ветра и др.).	Денудация 1
3.	Процессы, происходящие в местах распространения многолетней и сезонной мерзлоты, при содержании в грунтах замёрзшей воды. Проявляются в пучении и морозной сортировке грунтов, растрескивании, в создании морозобойных клиньев и т.д.	Криогенные процессы 1
4.	Группа внешних (экзогенных) процессов, связанных с деятельностью ветра. Наиболее активно проявляются в аридных (сухих) условиях. Различают действие с созданием ниш, котлов выдувания и аккумулятивное – с образованием дюн, барханов и др.	Эоловые процессы 1
5.	Название этого процесса произошло от одноименного наименования известнякового плато в Словении. Он представляет собой совокупность процессов и явлений, связанных с деятельностью воды и выражающихся в растворении горных пород и образовании в них пустот, а также своеобразных форм рельефа, возникающих на местностях, сложенных сравнительно легко растворимыми в воде горными породами – гипсом, известняком, мрамором, доломитом и каменной солью.	Карст 1

Критерии оценивания: за каждый правильный ответ - 1 балл, всего - 10 баллов.

Задание 3.

В предложенном тексте в скобках подчеркнуть правильные ответы.

Республика Саха (Якутия) – субъект РФ в (Дальневосточном/Сибирском) федеральном округе; относится к Восточно-(Сибирскому/Дальневосточному) экономическому району. Образован в 1922 г. Административный центр – город Якутск, в котором в 2108 г. проживает (312 тыс. чел./964 тыс. чел.). Граничит с Чукотским АО и Магаданской областью на востоке, с Хабаровским краем на юго-востоке, на юге – с Амурской областью и Забайкальским краем, с на западе граничит с Красноярским краем. Время в республике отличается от московского на (4 / 5 / 6 / 7 / 8) часов. Регион является (первым/вторым) по площади субъектом России. Площадь территории – 3 103,3 тыс. км², что составляет 18,1% территории России. На севере она омывается водами двух морей – (морем Лаптевых/Нукотским морем) и (Восточно-Сибирским морем/Карским морем). На севере в состав Якутии (входит архипелаг Северная Земля/ входят Новосибирские острова).

Всего в Якутии сосредоточено большое количество российских запасов угля. Масштабная угледобыча ведётся в Южно-Якутском (буроугольном/каменноугольном) бассейне. На западе региона возле города (Мирный/Норильск) создана и существует и сегодня очень мощная алмазодобывающая промышленная инфраструктура.

Климат в республике (умеренно/резко) континентальный, характерны сильные колебания температур воздуха в течение года. Разница температур самого холодного месяца — января и самого тёплого — июля составляет 70-75°C. Именно в Якутии находится Полюс холода северного полушария (Оймякон/Верхоянск), где в феврале 1892 г. была зарегистрирована температура (-67,8°C/-89,2°C).





Якутия относится к благополучным по обеспеченности водными ресурсами регионам. Западная часть региона расположена в бассейне реки (Енисей/Лена), восточная – в бассейнах рек Яны, Индигирки и Колымы. Большая часть территории Якутии расположена в зоне (тайги/тундры). Самым




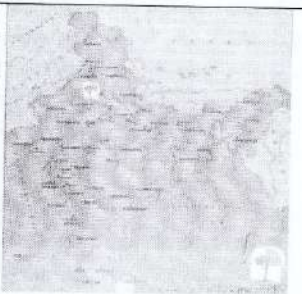
крупным этносом является (якуты/русские), на которых приходится 49,9% населения (по переписи 2010 г.).

Критерии оценивания: за каждый правильный ответ - 1 балл, всего - 16 баллов.

Задание 4.

«Определи объект по его изображению». Вам предстоит указать название полуостровов и ответить на вопросы, касающихся каждого из них. Результат занесите в таблицу.

№	Изображение	Название объекта	Особенности объекта
1		Бирегейский полуостров 1	Две крупные страны, расположенные на этом полуострове: 1. <u>Испания</u> 1 2. <u>Португалия</u> 1
2		Камчатский полуостров 1	1. Название океана, в который вдается этот полуостров: <u>Тихий</u> 1 2. Название региона России, который частично расположен на этом полуострове: <u>Камчатка</u> 1
3		Американский полуостров 1	1. Название страны, в основном располагающейся в границах этого полуострова: <u>Панама</u> 1
4		Аравийский полуостров 1	1. Самая крупная страна на полуострове: <u>Саудовская Аравия</u> 1 2. Залив на северо-востоке полуострова: <u>Персидский</u> 1

5		Иберийский полуостров 1	1. К территории какой страны относится полуостров: <u>Испания</u> 1
6		Скандинавский полуостров 1	Назовите две страны, территории которых полностью расположены на этом полуострове: 1. <u>Швеция</u> : 1 2. <u>Норвегия</u> : 1
7		Флорида 1	1. К какой стране относится этот полуостров: <u>США</u> 1
8		Мадагаскар 1	1. Какая страна занимает практически полностью территорию этого полуострова: <u>Мадагаскар</u> 1

Критерии оценивания: за каждый правильный ответ - 1 балл, всего - 20 баллов.

Задание 5.

Ответьте на вопрос

На тюменской земле берут старт мощные нефте- и газопроводы. Стальные артерии связали нас с центром страны, Волгой и Дунаем, пересекли государственные границы. Какие из них были самые первые, а какие самые длинные?

Северный поток 0

Критерии оценивания: за каждый правильный ответ - 1 балл, всего - 2 балла.

Жюри:

Проф Серожина С.В.

Тад Тажму С.Р.

Ульф Ульмань Н.В.

205