



Математический КВН

5-ые классы

Подготовила:
Маркус Екатерина Андреевна,
учитель математики МОУ СОШ №44
города Сургута,
2010 год

1 задание

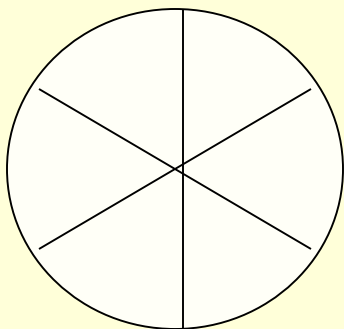
- Какая команда за 5 минут вспомнит больше имён и фамилий великих математиков?



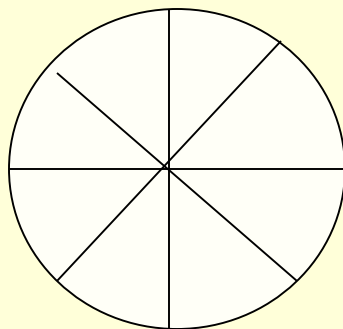
2 задание – разминка (10 минут)



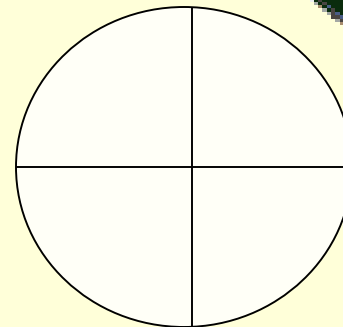
1.



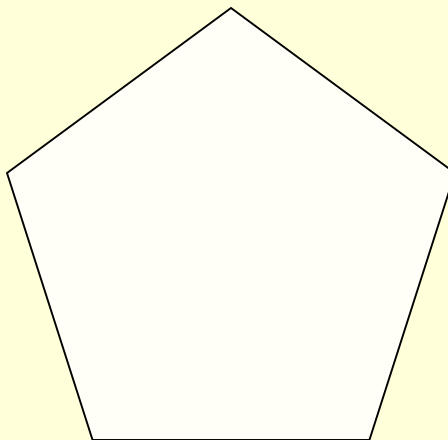
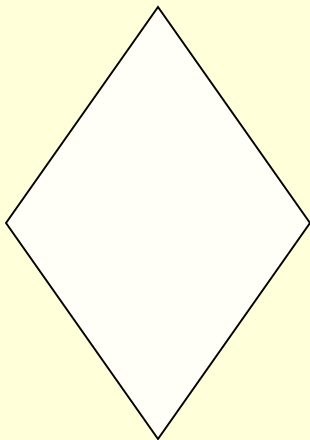
24



40



12



?

2 задание – разминка (10 минут)



2.

плато

(танк)

окунь

верба

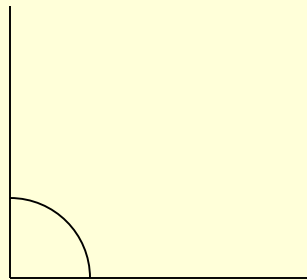
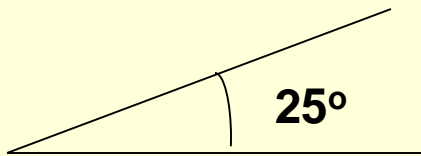
(. . . .)

атлас

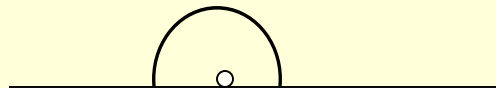
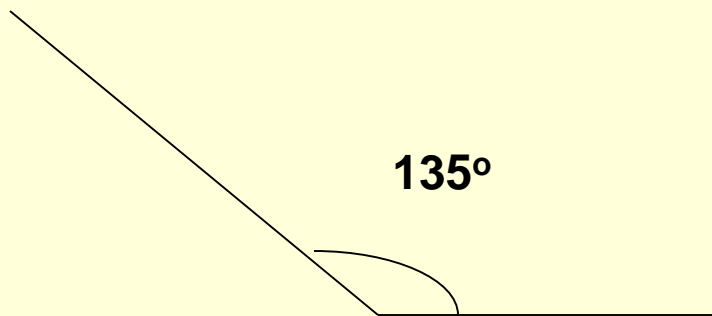
2 задание – разминка (10 минут)



3.



65°





?

2 задание – разминка (5 минут)



4.



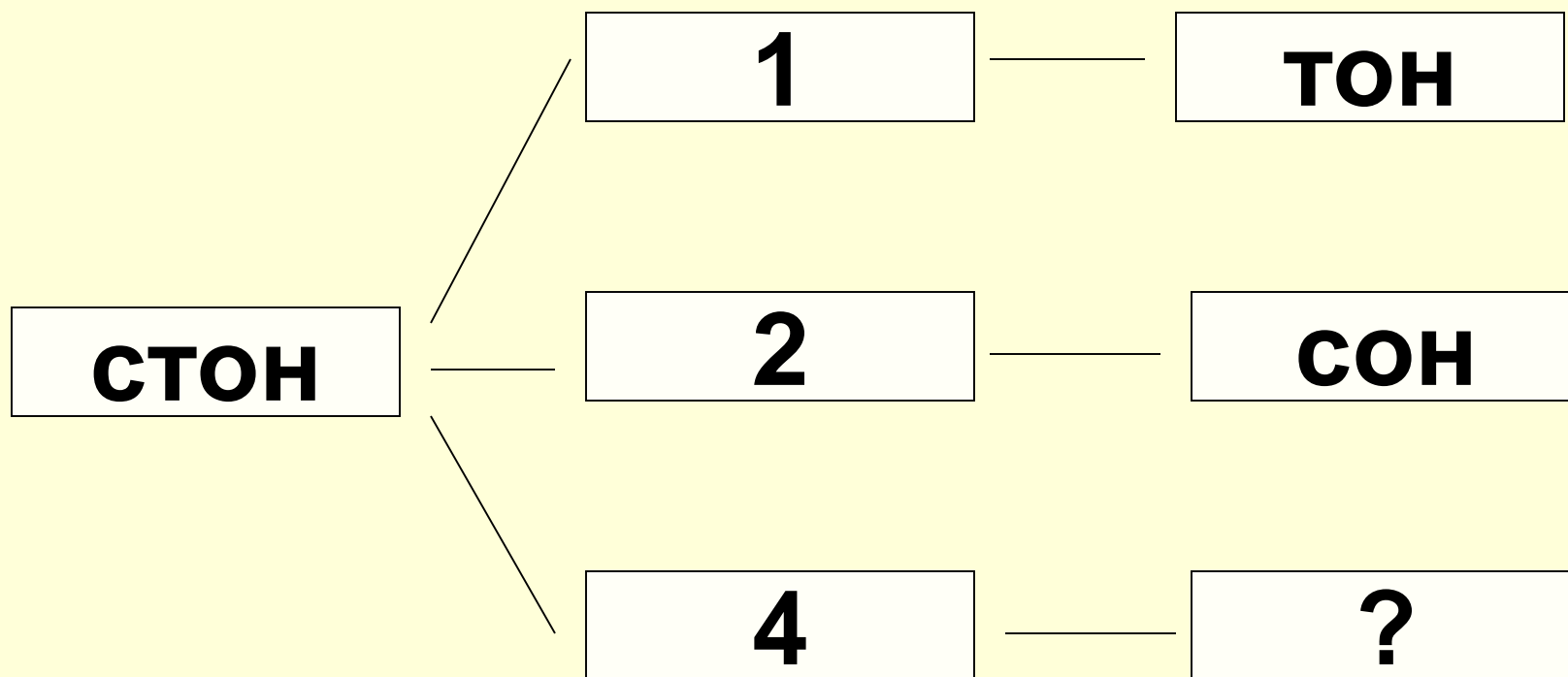
Длина окружности

?

2 задание – разминка (10 минут)



5.



3 задание – кроссворд (10 минут)



По горизонтали:

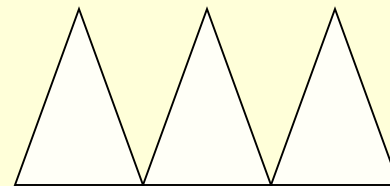
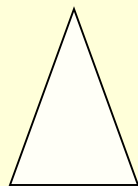
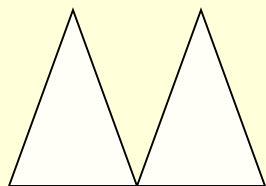
1. Наука о количествах и пространственных формах действительного мира.
2. Геометрическая фигура из трёх последовательно соединённых отрезков и трёх углов.

По вертикали:

1. Геометрическая фигура, которая состоит из четырех последовательно соединённых равных отрезков и четырёх прямых углов.
2. Единица измерения длины.
3. Отрезок, который соединяет центр окружности с точкой на окружности.

Задания для болельщиков (5 минут)

1. Найдите неизвестное число



$$\frac{7}{15}$$

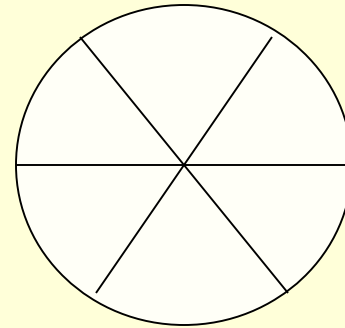
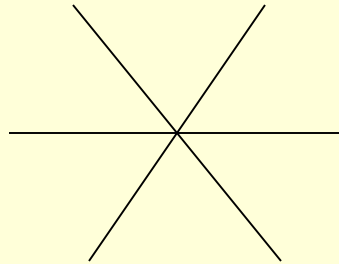

$$\frac{2}{15}$$

$$?$$



Задания для болельщиков (5 минут)

2.



3; 7; 11

4; 8; 11

?



